


Question Booklet Code

**SLRC-2022****Paper : IV**

| | | | | | | | |
|----------|--|--|--|--|--|--|--|
| Roll No. | | | | | | | |
|----------|--|--|--|--|--|--|--|

Time Allowed : 2:00 p.m. to 4:00 p.m. (2 Hours)

Maximum Marks : 175

Before filling the OMR Answer-Sheet, the candidate must ensure that all the pages from 1-64 are printed correctly in the Question Booklet. In case of any discrepancy, immediately replace your Question Booklet.

INSTRUCTIONS

Do not open the Question Booklet before 01:55 p.m. in the Examination Hall.

Read the question carefully before marking the right answer in the appropriate circle of the OMR Answer-Sheet.

- No candidate will be allowed to enter or leave the Examination Hall during the examination hours.
- Any candidate found using unfair means in the examination halls/rooms shall be disqualified.
- Candidate should clearly write his/her Roll No. in the space provided in the Question Booklet in case of using Non-Standard OMR Answer-Sheet.
- Candidates will have to sign twice. Once in the Attendance/Roll Sheet presented by the Invigilator on duty after taking their seats in the Examination Hall, and the other, at the time of handing over their **Question Booklet** and **OMR Answer-Sheet** to the Invigilator after the completion of the Examination. Cases where a candidate has not signed while submitting the OMR Answer sheet and the Question Booklet, he/she shall be treated as absent.
- Candidate should do all the necessary Rough Work on the Question Booklet in the space provided. Rough Work should not be done on the OMR Answer-Sheet or on any other paper. If any Rough Work is done on the OMR Answer-Sheet, the OMR Answer-Sheet will not be assessed.
- **There will be one single OMR Answer-Sheet for all the questions. No extra OMR Answer-Sheet will be provided for any mistake or correction.**
- The OMR Answer-Sheet will be provided along with the Question Booklet. Candidate should fill up the particulars in the OMR Answer-Sheet, i.e., Question Booklet No., Question Booklet Code, etc., carefully with blue/black ball-point pen only.
- The Examination is of **2** hours duration and will consist of **100** questions of **1.75 mark** against each question.
- **There is no negative marking for any wrong answer.**
- Candidate should note that each question is given in multilingual form, viz., in Assamese/ Bengali/Bodo/Hindi/English medium/version for his/her convenience and ready reference. In case of any discrepancy or confusion in the medium/version, the English version will be treated as the authentic version.

Very Important :

- **The candidate should make sure that the corresponding Question Booklet Code is properly written/shaded in the OMR Answer-Sheet by him/her. For example, if the candidate gets Question Booklet Code 'A', then he/she should fill up 'A' in the box provided in the OMR Answer-Sheet and also shade the circle 'A' in the OMR Answer-Sheet. In case of any discrepancy in the Question Booklet, the candidate should immediately report the matter to the Invigilator for replacement.**
- **The candidate has to return the Question Booklet along with the OMR Answer-Sheet to the Invigilator before leaving the Examination Hall failing which he/she will be considered absent.**

নিয়মাবলী

আবেলি 01:55 বজাৰ আগতে প্ৰশ্নকাকতখন নুখুলিব।

OMR উত্তৰ পত্ৰৰ যথাযথ বৃত্তটোত শুদ্ধ উত্তৰটো চিহ্নিত কৰাৰ আগতে প্ৰশ্নটো সাৱধানে পঢ়ি লওক।

- পৰীক্ষা চলি থকা অৱস্থাত কোনো পৰীক্ষাৰ্থীক পৰীক্ষা কক্ষৰ ভিতৰত প্ৰৱেশ অথবা পৰীক্ষা কক্ষ এৰি যাবলৈ অনুমতি দিয়া নহ'ব।
- যদি কোনো পৰীক্ষাৰ্থীয়ে অসৎ উপায় অৱলম্বন কৰে বা ওপৰত উল্লেখ কৰা পৰীক্ষাৰ নিয়মসমূহ উলঙ্ঘা কৰে, তেন্তে তেওঁক অযোগ্য বুলি বিবেচনা কৰা হ'ব।
- Non-Standard OMR ব্যৱহৃত হলে পৰীক্ষাৰ্থীয়ে নিজৰ বোল নম্বৰ প্ৰশ্নকাকতৰ নিৰ্দিষ্ট ঠাইত স্পষ্টকৈ লিখিব লাগিব।
- পৰীক্ষাৰ্থীসকলে নিৰীক্ষকে দিয়া উপস্থিত/বোল পত্ৰত দুবাৰ স্বাক্ষৰ কৰিব লাগিব, প্ৰথমবাৰ তেওঁলোকে পৰীক্ষা কক্ষত আসন গ্ৰহণ কৰাৰ সময়ত আৰু দ্বিতীয়বাৰ OMR উত্তৰপত্ৰ আৰু প্ৰশ্নকাকতখনো নিৰীক্ষকক জমা দিয়াৰ সময়ত। কোনো পৰীক্ষাৰ্থীয়ে উপস্থিত/বোল পত্ৰত দ্বিতীয়বাৰ যদি স্বাক্ষৰ নকৰে, তেনেহ'লে তেওঁলোক অনুপস্থিত বুলি ধৰি লোৱা হ'ব।
- পৰীক্ষাৰ্থীয়ে সকলো ধৰণৰ প্ৰয়োজনীয় খচৰা (rough) কাম প্ৰশ্নকাকতত দিয়া ঠাইতহে কৰিব পাৰিব। পৰীক্ষাৰ্থীয়ে খচৰা (rough) কাম উত্তৰ পত্ৰ বা অন্য কোনো ধৰণৰ কাগজত কৰিব নোৱাৰিব। উত্তৰ পত্ৰত যদি এই খচৰা (rough) কাম পৰীক্ষাৰ্থীয়ে কৰে, তেতিয়াহ'লে তেনে উত্তৰ পত্ৰৰ মূল্যায়ন কৰা নহ'ব।
- সকলো প্ৰশ্নৰ বাবে পৰীক্ষাৰ্থীক এখন মাত্ৰ **OMR** উত্তৰ পত্ৰহে দিয়া হ'ব। ভুল হ'লে বা শুদ্ধ কৰিবলৈ অতিৰিক্ত কোনো উত্তৰ পত্ৰ দিয়া নহ'ব।
- প্ৰশ্নকাকতৰ লগত এখন OMR উত্তৰ পত্ৰ দিয়া হ'ব। পৰীক্ষাৰ্থীয়ে সেই নিৰ্দিষ্ট OMR উত্তৰ পত্ৰত প্ৰশ্নকাকতৰ নম্বৰ, প্ৰশ্নকাকতৰ ক'ড, ইত্যাদি সাৱধানে কেবল নীলা/ক'লা বল-পইন্ট পেনেৰে পূৰণ কৰিব লাগিব।
- পৰীক্ষাৰ সময় 2 ঘণ্টা আৰু প্ৰশ্নকাকতত 100 টা প্ৰশ্ন থাকিব আৰু প্ৰত্যেকটো প্ৰশ্নৰ বাবে 1.75 নম্বৰকৈ থাকিব।
- ভুল উত্তৰৰ বাবে কোনো ঋণাত্মক নম্বৰ নাথাকিব।
- সকলোবোৰ তথ্য লিখিবৰ বাবে পৰীক্ষাৰ্থীয়ে OMR উত্তৰ পত্ৰত নীলা/ক'লা বল-পইন্ট পেনেৰে ব্যৱহাৰ কৰিব লাগিব।
- পৰীক্ষাৰ্থীয়ে তেওঁলোকৰ সুবিধাৰ্থে মনত ৰাখিব যে প্ৰশ্নকাকতৰ প্ৰশ্নসমূহ বহুভাষিক হ'ব, যেনে অসমীয়া, বঙালী, বড়ো, হিন্দী আৰু ইংৰাজী। এই ক্ষেত্ৰত মাধ্যম বা সংস্কৰণত কোনো ধৰণৰ বিসঙ্গতি নাইবা বুজি পোৱাত অসুবিধা হ'লে ইংৰাজী সংস্কৰণটোকেই প্ৰকৃত শুদ্ধ বুলি গণ্য কৰিব।

Important Instruction :

- পৰীক্ষাৰ্থী নিশ্চিত হোৱা উচিত যাতে প্ৰশ্নকাকতৰ ক'ড নম্বৰটো **OMR** উত্তৰ পত্ৰৰ নিৰ্দিষ্ট ঠাইত লিখা হয়। উদাহৰণস্বৰূপে, পৰীক্ষাৰ্থীয়ে গ্ৰহণ কৰা প্ৰশ্নকাকতৰ ক'ড 'A' থাকিলে **OMR** উত্তৰ পত্ৰৰ নিৰ্দিষ্ট ঠাইত 'A' লিখিব লাগিব আৰু নিৰ্দিষ্ট বৃত্ত 'A' টো ক'লা কৰিব লাগিব। প্ৰশ্নকাকতত কিবা বিসঙ্গতি দেখিলে পৰীক্ষাৰ্থীয়ে তৎক্ষণাত নিৰীক্ষকক জনাব আৰু প্ৰশ্নকাকতখন সলাই দিবলৈ ক'ব।
- পৰীক্ষা কক্ষ ত্যাগ কৰাৰ আগতে পৰীক্ষাৰ্থীয়ে নিৰীক্ষকৰ হাতত **OMR** উত্তৰ পত্ৰৰ লগতে প্ৰশ্নকাকতখনো জমা দিব লাগিব। অন্যথা পৰীক্ষাৰ্থীজন অনুপস্থিত বুলি বিবেচিত হ'ব।



নিয়মাবলী

দুপুর 01:55 ঘটিকার পূর্বে প্রশ্নপত্রটি খুলবেন না।

OMR উত্তর পত্রের যথাযথ বৃত্তটিতে শুদ্ধ উত্তরটি চিহ্নিত করার পূর্বে প্রশ্নটি সাবধানে পড়ে নেবেন।

- পরীক্ষা চলতে থাকা অবস্থায় কোন পরীক্ষার্থীকে পরীক্ষা কক্ষের ভিতরে প্রবেশ অথবা পরীক্ষা কক্ষ থেকে বাইরে যাওয়ার অনুমতি দেওয়া হবে না।
- যদি কোন পরীক্ষার্থী অসৎ উপায় অবলম্বন করেন বা উপরে উল্লেখ করা পরীক্ষার নিয়মসমূহ উলঙ্ঘন করেন, তবে তাঁকে অযোগ্য বলে বিবেচনা করা হবে।
- নোন স্ট্যান্ডারড OMR উত্তর পত্রের জন্য পরীক্ষার্থীকে নিজের রোল নম্বর প্রশ্নপত্রের নির্দিষ্ট স্থানে স্পষ্ট করে লিখতে হবে।
- পরীক্ষার্থীদিগকে নিরীক্ষকের দেওয়া উপস্থিতি/রোল পত্রে দুবার স্বাক্ষর করতে হবে, প্রথমবার তাদের পরীক্ষা কক্ষে আসন গ্রহণ করার সময়ে এবং দ্বিতীয়বার OMR উত্তরপত্র এবং প্রশ্নপত্রটি নিরীক্ষককে জমা দেওয়ার সময়ে। কোন পরীক্ষার্থী উপস্থিতি/রোল পত্রে যদি দ্বিতীয়বার স্বাক্ষর না করেন, তাহলে তাকে অনুপস্থিত বলে গণ্য করা হবে।
- পরীক্ষার্থী সকল ধরনের প্রয়োজনীয় খসড়া (rough) কাজ প্রশ্নপত্রে দেওয়া স্থানে করতে পারবেন। পরীক্ষার্থী খসড়া (rough) কাজ উত্তরপত্র বা অন্য কোন ধরনের কাগজে করতে পারবেন না। যদি পরীক্ষার্থী এই খসড়া (rough) কাজ উত্তরপত্রে করেন, তবে এই উত্তরপত্রের মূল্যায়ন করা হবে না।
- সব প্রশ্নের জন্য পরীক্ষার্থীকে একটি মাত্র **OMR** উত্তরপত্র দেওয়া হবে। ভুল হলে বা শুদ্ধ করবার জন্য অতিরিক্ত কোনও উত্তরপত্র দেওয়া হবে না।
- প্রশ্নপত্রের সাথে একটি OMR উত্তরপত্র দেওয়া হবে। পরীক্ষার্থীকে সেই নির্দিষ্ট OMR উত্তরপত্রে প্রশ্নপত্রের নম্বর, প্রশ্নপত্রের কোড ইত্যাদি সাবধানে শুধুমাত্র নীল/কালো বল-পয়েন্ট পেন দ্বারা পূর্ণ করতে হবে।
- পরীক্ষার সময় 2 ঘণ্টা এবং প্রশ্নপত্রে 100 টি প্রশ্ন থাকবে এবং প্রত্যেকটি প্রশ্নের জন্য 1.75 নম্বর করে ধার্য আছে।
- ভুল উত্তরের জন্য কোন ঋণাত্মক নম্বর থাকবে না।
- সকল তথ্য লেখার জন্য পরীক্ষার্থীকে OMR উত্তরপত্রে নীল/কালো বল-পয়েন্ট পেন ব্যবহার করতে হবে।
- পরীক্ষার্থীদের তাঁদের সুবিধার্থে মনে রাখতে হবে যে প্রশ্নপত্রের প্রশ্নগুলো বহুভাষিক হবে। যেমন- অসমীয়া, বাংলা, বড়ো, হিন্দী এবং ইংরাজী। এই ক্ষেত্রে মাধ্যম বা সংস্করণে কোন ধরনের অসঙ্গতি অথবা বোঝার অসুবিধা হলে ইংরাজী সংস্করণকেই প্রকৃত শুদ্ধ বলে গণ্য করবেন।

Important Instruction :

- পরীক্ষার্থীর নিশ্চিত হওয়া উচিত যাতে প্রশ্নপত্রের কোড নম্বরটি **OMR** উত্তরপত্রের নির্দিষ্ট স্থানে লেখা হয়। উদাহরণস্বরূপ, পরীক্ষার্থীর পাওয়া প্রশ্নপত্রের কোড 'A' থাকলে **OMR** উত্তরপত্রের নির্দিষ্ট স্থানে 'A' লিখতে হবে এবং নির্দিষ্ট বৃত্ত 'A' টি কালো করতে হবে। প্রশ্নপত্রে কোন অসঙ্গতি দেখলে পরীক্ষার্থী তৎক্ষণাৎ বিষয়টি নিরীক্ষককে জানাবেন এবং প্রশ্নপত্রটি বদল করতে বলবেন।
- পরীক্ষা কক্ষ ত্যাগ করবার পূর্বে পরীক্ষার্থীকে নিরীক্ষকের হাতে **OMR** উত্তরপত্রের সঙ্গে প্রশ্নপত্রটি জমা দিতে হবে। জমা না দিলে পরীক্ষার্থী অনুপস্থিত বলে বিবেচিত হবে।



बिथोन

बेलासे 01:55 रिंगानि सिगां आनजादनि सौनाय बिलाइखौ बेखेनाडा ।

दुलुर बागसुआव गेबेडै नम्बरखौ होनायनि सिगां गासैबो सौंथिखौ रोखायै फरायना लाग्रो ।

- आनजाद सोलिबाय थानाय समाव रावबो बिनायसाखौ आनजाद जानाय खथायाव हाबनो एबा आनजाद खथा नागारनो होनाय जानाय नडा ।
- युदि सोरबा बिनायसाया गाज्जि राहा लायो एबा गोजौयाव मख 'नाय नेमफोरखौ सिफायो, बिथांखौ उथ्रियै होनना गनायनाय जागोन ।
- जुदि Non-Standard OMR Sheet बाहायनाय जायोब्ला, बिनायसाया गावबा-गावनि फारि नम्बर (Roll No.) सौनाय बिलाइनि थि जायगायाव रोखायै लिरनो नांगोन ।
- बिनायसाफोरा नायदिंगिरिया होनाय नुजाथिनाय/फारि बिलाइयाव खेबनै मुंसाइ खालामनो नांगोन, गिबियाव जेब्ला बिसोरो आनजाद खथायाव मासि लानाय समाव आरो नैथि खेबाव सौनाय बिलाइ आरो OMR फिननाय बिलाइखौ नायदिंगिरिनो जमा होनाय समाव । सोरबा बिनायसाया नुजाथिनाय/फारि बिलाइयाव नैथि खेबनि थाखाय युदि मुंसाइ खालामा अब्ला बिथांमोना आनजाद होनो फैयाखे होना हमनान लानाय जागोन ।
- बिनायसाया गावनि गासैबो रोखोमनि गोनां जानाय rough हाबाखौ सौनाय बिलाइयावसो खालामनो हागोन । बिनायसाया rough हाबाखौ फिननाय बिलाइयाव एबा गुबुन रोखोमनि खागज बाहायनो हानाय नडा । फिननाय बिलाइयाव युदि बे rough हाबाखौ खालामो अब्ला फिननाय बिलाइखौ सुमोनथाय खालामनाय जानाय नडा ।
- गासैबो सौनायनि थाखाय बिनायसानो गांसेल' OMR फिननाय बिलाइ होनाय जागोन । गोरोनथि जाब्ला गेबैडै लिरनो जेबो उफेरा फिननाय बिलाइ होनाय जानाय नडा ।
- सौनाय बिलाइजों लोगोसे गांसे OMR फिननाय बिलाइ होनाय जागोन । बिनायसाया बे थि OMR फिननाय लाइयाव सुफुंनो हागोन-जैरे : सौनाय बिलाइनि नम्बर आरो सौनाय बिलाइनि क'ड, रावनि क'ड बायदि बायदिखौ साबधानै नीला एबा गोसोम बलपेनजों लिरनो नांगोन ।
- आनजादनि समा 2 घन्टा आरो सौनाय बिलाइयाव मोन 100 सौंथि थागोन आरो मोनफ्रौमबो सौनायावनो गेबें फिननि थाखाय 1.75 नम्बरे थागोन ।
- गोरोनथि फिननायनि थाखाय जेबो दानख' नम्बर गैया ।
- बिनायसाया OMR फिननाय बिलाइयाव खालि नीला आरो गोसोम बलपेनजोंसो गासैबो खारिखौ आबुं खालामनो नांगोन ।
- आनजाद हो गिरिनि सुबिधानि थाखाय गोसोयाव लाखिनाया मोजांदि सौनाय बिलाइनि बाहागोनि सौनायफोरा गोबां रावनि जागोन, जैरे असमीया, बांला, बर', हिन्दी आरो इराजि । बे बेलायाव माबेबा बिजों एबा फोसावनाया बेले-बेजे एबा बुजिनायाव गोब्राब जायोब्ला इरांजीयाव फोसावनायखौनो नंगुबै होनना हमना लानो नांगोन ।

Important Instruction :

- बिनायसाया रोखा जानाया मोजांदि सौनाय बिलाइनि क'डखौ OMR फिननाय बिलाइनि थि जायगायाव लिरनो गाब होनो नांगोन । बिदिन्थि बादियै बिनायसाया मोननाय सौनाय बिलाइनि क'डा 'A' खौ फिननाय बिलाइनि थि जायगायाव सौनाय बिलाइनि क'डा 'A' लिरनो नांगोन आरो थि बेखनखौ गोसोम खालामनो नांगोन ।
- आनजाद खथाखौ नागारनायनि सिगां बिनायसाया नायदिंग्रानि आखायाव OMR फिननाय बिलाइजों लोगोसे सौनाय बिलाइखौबो जमा होनो नांगोन । नडाब्ला आनजाद होगोरिखौ नुजाथियै हिसाबै गनायनाय जागोन ।



निर्देश

दोपहर 01:55 बजे से पूर्व प्रश्न पुस्तिका न खोलें ।

OMR उत्तर-पत्र के उपयुक्त वृत्त में शुद्ध उत्तर चिह्नित करने से पूर्व सभी प्रश्न सावधानीपूर्वक पढ़ लें ।

- परीक्षा चलते समय किसी परीक्षार्थी को परीक्षा भवन के भीतर प्रवेश अथवा परीक्षा भवन छोड़कर जाने की अनुमति नहीं दी जाएगी ।
- यदि कोई परीक्षार्थी गलत तरीका अपनाता है या ऊपर उल्लिखित नियमों का उल्लंघन करता है, तो उसे अयोग्य करार दिया जायेगा ।
- Non-Standard OMR उत्तर-पत्र के उपयोग हेतु परीक्षार्थी अपना रोल नं. प्रश्न पुस्तिका में दिए गए स्थान पर स्वच्छ रूप से लिखें ।
- परीक्षार्थी को निरीक्षक द्वारा दिए गए उपस्थिति/रोल शीट पर दो बार हस्ताक्षर करना पड़ेगा, पहली बार शीट लेने के बाद और दूसरी बार प्रश्न पुस्तिका और OMR उत्तर-पत्र निरीक्षक को सौंपने के बाद । अगर किसी परीक्षार्थी ने उपस्थिति/रोल शीट पर दोबारा हस्ताक्षर नहीं किया, तो उस परीक्षार्थी को अनुपस्थित समझा जाएगा ।
- परीक्षार्थी सभी तरह का जरूरी रफ़ (rough) कार्य प्रश्न पुस्तिका में दिए गए स्थान पर कर सकेंगे । परीक्षार्थी रफ़ (rough) कार्य उत्तर-पत्र या अन्य किसी तरह के कागज पर नहीं कर सकेंगे । यदि परीक्षार्थी उत्तर-पत्र पर कोई रफ़ (rough) कार्य करता है, तो ऐसे उत्तर-पत्र का मूल्यांकन नहीं किया जाएगा ।
- सभी प्रश्नों के लिए परीक्षार्थी को केवल एक **OMR** उत्तर-पत्र ही दिया जाएगा । गलती होने पर या शुद्ध करने के लिए कोई अतिरिक्त उत्तर-पत्र नहीं दिया जाएगा ।
- प्रश्न पुस्तिका के साथ एक OMR उत्तर-पत्र दिया जाएगा । परीक्षार्थी उस निर्दिष्ट OMR उत्तर-पत्र में प्रश्न पुस्तिका नं., प्रश्न पुस्तिका का कोड और भाषा का कोड इत्यादि विवरण सावधानी से केवल नीला या काला बॉल-पॉइन्ट पेन से भरें ।
- परीक्षा का समय 2 घण्टे होगा और प्रश्न पुस्तिका में 100 प्रश्न होंगे और प्रत्येक प्रश्न के लिए 1.75 अंक होगा ।
- गलत उत्तर के लिए कोई नकारात्मक अंकन नहीं होगा ।
- परीक्षार्थियों को इस पृष्ठ पर और OMR उत्तर-पत्र पर केवल नीला या काला बॉल-पॉइन्ट पेन से सभी सूचनाएँ भरनी होंगी ।
- परीक्षार्थी अपनी सुविधा के लिए ध्यान रखें कि प्रश्न पुस्तिका का प्रत्येक प्रश्न बहु-भाषिक होगा, जैसे - असमिया, बंगला, बोडो, हिन्दी और अंग्रेजी । इस संदर्भ में माध्यम या संस्करण में किसी प्रकार की त्रुटि या समझने में असुविधा होने पर अंग्रेजी अनुवाद को ही सही माना जाएगा ।

Important Instruction :

- परीक्षार्थी यह सुनिश्चित कर लें कि उसके द्वारा प्रश्न पुस्तिका का कोड **OMR** उत्तर-पत्र में सही ढंग से भरा/काला किया गया हो । उदाहरणस्वरूप, यदि परीक्षार्थी की प्रश्न पुस्तिका का कोड 'A' हो, तो **OMR** उत्तर-पत्र में कोड 'A' लिखना होगा और वृत्त 'A' को काला करना होगा । यदि प्रश्न पुस्तिका में कोई भूल या इस तरह की कोई विसंगति मिले, तो तुरन्त परीक्षा निरीक्षक से वह प्रश्न पुस्तिका बदलने को कहें ।
- परीक्षा भवन छोड़ने से पहले परीक्षार्थी को निरीक्षक के पास **OMR** उत्तर-पत्र के साथ प्रश्न पुस्तिका भी जमा करना होगा । अन्यथा उन्हें अनुपस्थित के रूप में समझा जाएगा ।



1. “तीर्थंकर” शब्दको निम्नलिखित कौनसे सभसँ सम्बन्धित ?
 (A) जैनधर्म (B) बौद्धधर्म
 (C) सिखधर्म (D) हिन्दुधर्म
1. “तीर्थंकर” शब्दको कौन धर्मसँ सम्बन्धित ?
 (A) जैनधर्म (B) बौद्धधर्म
 (C) सिखधर्म (D) हिन्दुधर्म
1. “तीर्थंकर” फोरहा गाहायाव होनाय बबे धोरुमजुँ सोमोन्दु दं ?
 (A) जैन धोरुम (B) बौद्ध धोरुम
 (C) सिख धोरुम (D) हिन्दु धोरुम
1. “तीर्थंकर” संज्ञा निम्नलिखित किस एक धर्म से संबद्ध है ?
 (A) जैन धर्म (B) बौद्ध धर्म
 (C) सिख धर्म (D) हिंदू धर्म
1. The term “Tirthankaras” is associated with
 (A) Jainism (B) Buddhism
 (C) Sikhism (D) Hinduism
-
2. উত্তৰ-পূব ভাৰতৰ কৌনখন ৰাজ্যৰ সীমা বাংলাদেশৰ সীমাৰ সৈতে সংলগ্ন নহয় ?
 (A) মণিপুর (B) ত্ৰিপুরা
 (C) মেঘালয় (D) মিজোৰাম
2. উত্তৰ-পূৰ্ব ভাৰতৰ কৌন ৰাজ্যটি বাংলাদেশৰ সঙ্ঘে সীমানাৰ সংলগ্ন নয় ?
 (A) মণিপুর (B) ত্ৰিপুরা
 (C) মেঘালয় (D) মিজোৰাম
2. सा-सानजा भारतनि बबे राइजुनि सिमाया बाग्लादेशजुँ नांजाबलाया ?
 (A) मणिपुर (B) त्रिपुरा
 (C) मेघालय (D) मिजोराम
2. पूर्वोत्तर भारत का वह राज्य जो बांग्लादेश के साथ सीमा साझा नहीं करता है :
 (A) मणिपुर (B) त्रिपुरा
 (C) मेघालय (D) मिजोराम
2. The State of Northeast India that does not share borders with Bangladesh, is
 (A) Manipur (B) Tripura
 (C) Meghalaya (D) Mizoram



3. নিম্নলিখিত বিকল্প সমূহৰ ভিতৰত অমিল শব্দটো হৈছে :
- (A) গেংটক (B) ইম্ফাল
(C) আগৰতলা (D) ডিমাপুৰ
3. অমিল থাকা শব্দটি খুঁজে বের করো।
- (A) গ্যাংটক (B) ইম্ফাল
(C) আগরতলা (D) ডিমাপুর
3. गाहायाव होनायनि गेजेराव गोरोबलायैखौ नागिर।
- (A) गंगटोक (B) इम्फाल
(C) अगरतला (D) दीमापुर
3. विषम को चुनें।
- (A) गंगटोक (B) इम्फाल
(C) अगरतला (D) दीमापुर
3. Find the odd one out.
- (A) Gangtok (B) Imphal
(C) Agartala (D) Dimapur

4. “লাই হাৰাওবা” উৎসৱটি নিম্নলিখিত কোন জাতিগোষ্ঠীৰ সৈতে সম্পৰ্কিত ?
- (A) মিচিং (B) কাৰ্বি
(C) গাৰো (D) মেইতেই
4. “লাই হাৰাওবা” উৎসৱটি নীচের কোন জনজাতির সঙ্গে যুক্ত ?
- (A) মিচিং (B) কাৰ্বি
(C) গাৰো (D) মেইটি
4. लाइ हाराओबा फोरबोआ ब'बे हारिजों लोब्बा दं ?
- (A) मिसिंग (B) कार्बी
(C) गारो (D) मेइतेई
4. निम्नलिखित में से कौन सा समूह “लाइ हारौबा” उत्सव से संबद्ध है ?
- (A) मिशिंग (B) कार्बी
(C) गारो (D) मैटेई
4. Which one of the following groups, is the festival “Lai Haraoba” associated with ?
- (A) Mishings (B) Karbis
(C) Garos (D) Meiteis



5. কাংলা দুৰ্গটো উত্তৰ-পূব ভাৰতৰ কোন ঠাইত অৱস্থিত ?
 (A) আগৰতলা (B) গেংটক
 (C) ইটানগৰ (D) ইম্ফল
5. কাঙলা দুৰ্গ উত্তৰ পূৰ্ব ভাৰতৰ কোথায় অবস্থিত ?
 (A) আগৰতলা (B) গ্যাংটক
 (C) ইটানগৰ (D) ইম্ফল
5. কংলা কিলায়া সা-সানজা ভাৰতআব বহা দং ?
 (A) অগৰতলা (B) গংটোক
 (C) ইটানগৰ (D) ইম্ফাল
5. उत्तर पूर्व भारत में कांगला किला स्थित है :
 (A) अगर्तला में (B) गंगटोक में
 (C) ईटानगर में (D) इम्फाल में
5. Where in Northeast India is Kangla fort located ?
 (A) Agartala (B) Gangtok
 (C) Itanagar (D) Imphal

6. নিম্নলিখিত সমূহৰ কোনটো এক শুদ্ধ বিবৃতি নহয় ?
 (A) সুন্দৰবন ব-দ্বীপত বিশ্বৰ সৰ্ববৃহৎ ম্যানগ্ৰোভ বনাঞ্চলটো অৱস্থিত ।
 (B) চীন দেশ হৈছে বিশ্বৰ সৰ্ববৃহৎ অম্ল (মাইকা) উৎপাদনকাৰী দেশ ।
 (C) ইষ্টাৰ দ্বীপে হৈছে এটা ভূমি অঞ্চল যিটো ভাৰতৰ ভূগোলকীয় বিপৰীত স্থানত অৱস্থিত ।
 (D) ভাৰতৰ সৰ্ববৃহৎ লুণীয়া হ্রদটি গুজৰাটত অৱস্থিত ।
6. नीचेर कोन विवृति शुद्ध नय ?
 (A) सुन्दरवन ब-द्वीप (delta) पृथिवीर बृहत्तम गरान गाछेर (mangrove) वन ।
 (B) चीन पृथिवीर बृहत्तम अम्ल (mica) उৎपादक ।
 (C) ईस्टार द्वीप एकटि स्थलभूमि या भारतेर एकेवारे विपरीते ।
 (D) भारतेर अड्यन्तरे अवस्थित बृहत्तम नोनाजलेर ह्रद गुजराटे अवस्थित ।
6. गाहायनि बबेआ सैथो नडा ?
 (A) सुन्दरवननि ब-द्वीप आ बहुमनि बइनिखुइ देरसिन मंग्रभ हाग्रामानि न' ।
 (B) भारतआ बहुमनि बइनिखुइ बांसिन माइका दिहुनग्रा हादत ।
 (C) भारतनि एंटीपोड आव थानाय दाबसेल'हा बाहागोआ जाबाय ईस्टर द्वीप ।
 (D) भारतति बइनिखुइ गुवारसिन गोबाब दै नि बिलोआ गुजरातआव दं ।
6. निम्नलिखित में से कौन सा कथन सही नहीं है ?
 (A) सुंदरवन डेल्टा दुनिया के सबसे बड़े मैंग्रोव वन का घर है ।
 (B) चीन विश्व का सबसे बड़ा अम्ल उत्पादक देश है ।
 (C) ईस्टर द्वीप एक भू-भाग क्षेत्र है जो भारत के लिए एंटीपोडल है ।
 (D) भारत की सबसे बड़ी अंतर्देशीय खारे पानी की झील गुजरात में स्थित है ।



6. Which of the following is NOT a correct statement ?
- (A) Sundarbans delta is home to the largest mangrove forest in the world.
(B) China is world's largest mica producer.
(C) Easter Island is a land area that is antipodal to India.
(D) India's largest inland salt water lake is located in Gujarat.

7. ভাৰতৰ নিৰ্বাচন আয়োগৰ মতে, ৰাষ্ট্ৰীয় দল ৰূপে স্বীকৃতি পাবৰ বাবে কোনো এক ৰাজনৈতিক দল কমেও কিমানখন ৰাজ্যত স্বীকৃত ৰাজনৈতিক দল হিচাবে গণ্য হ'ব লাগিব ?
- (A) এক (B) চাৰি
(C) পাঁচ (D) তিনি
7. ভাৰতৰ নিৰ্বাচন আয়োগৰ নিৰ্দেশিকা অনুসারে কোনো ৰাজনৈতিক দল ৰাষ্ট্ৰীয় দল হিচাবে চিহ্নিত হতে কতটি ৰাজ্যে স্বীকৃত ৰাজনৈতিক দল হিচাবে গণ্য হতে হবে ?
- (A) এক (B) চাৰ
(C) পাঁচ (D) তিনি
7. ভাৰতৰ 'বিসাখ' আয়গ ৰাঢ়িই, হাঢ়াৰি হানজানি গনাথিখি মৌনজানৌ মৌনসে ৰাজখান্থিযাৰি হানজাথা দৰেসে ৰাজ্যৌআব ৰাজখান্থি হানজানি গনাথিখি মৌনজানাগৌ ?
- (A) দৰসে (B) দৰে
(C) দৰা (D) দৰ থাম
7. ভাৰত কে চুনাব আয়োগ কে অনুসার, এক ৰাষ্ট্ৰীয় দল কে ৰূপ মেঁ মান্যতা প্ৰাপ্ত কৰনে কে লিএ, এক ৰাজনীতিক দল কো কম সে কম কিতনে ৰাজ্যৌ মেঁ এক মান্যতা প্ৰাপ্ত ৰাজনীতিক দল মানা জানা চাহিএ ?
- (A) এক (B) চাৰ
(C) পাঁচ (D) তিনি
7. According to the Election Commission of India, in order to be recognized as a National Party, a political party must be treated a recognized political party in at least how many states ?
- (A) One (B) Four
(C) Five (D) Three

8. নিম্নলিখিত ব্যক্তি সমূহৰ কোন গৰাকীয়ে কৈছিল – “স্বৰাজ মৌৰ জন্মগত অধিকাৰ আৰু মই ইয়াক লভিমই” ?
- (A) চন্দ্ৰশেখৰ আজাদ (B) বাল গংগাধৰ তিলক
(C) গোপাল কৃষ্ণ গোখলে (D) ভগৎ সিং
8. নিম্নে উল্লেখিতদের মধ্যে এটি কৰ উক্তি, “স্বৰাজ আমাৰ জন্মগত অধিকাৰ এং আমি তা অৰ্জন কৰবই ।” ?
- (A) চন্দ্ৰশেখৰ আজাদ (B) বাল গংগাধৰ তিলক
(C) গোপালকৃষ্ণ গোখলে (D) ভগৎ সিং



8. गाहायनि सौर सासेआ बुंदोंमोन, “उदांश्रिया आंनि जोनोम मोन्थाय आरो आं बेखौ लाथारगोन” ?
 (A) चन्द्रशेखर आजाद (B) बाल गंगाधर तिलक
 (C) गोपालकृष्ण गोखले (D) भगत सिंह
8. निम्नलिखित में से किसने कहा कि “स्वतंत्रता मेरा जन्मसिद्ध अधिकार है और इसे मैं लेकर रहूँगा” ?
 (A) चंद्रशेखर आजाद (B) बाल गंगाधर तिलक
 (C) गोपाल कृष्ण गोखले (D) भगत सिंह
8. Who amongst the following said, “Freedom is my birth right and I shall have it” ?
 (A) Chandra Sekhar Azad (B) Bal Gangadhar Tilak
 (C) Gopal Krishna Gokhale (D) Bhagat Singh

9. কোন বর্ষত আকবর আৰু হিমূৰ মাজত পানীপথৰ দ্বিতীয় যুদ্ধ সংঘটিত হৈছিল ?
 (A) 1526 (B) 1536
 (C) 1556 (D) 1576
9. আকবর এবং हेमूर मध्ये द्वितीय पाणिपथेर युद्ध कत खृष्टाब्दे हयेछिल ?
 (A) 1526 (B) 1536
 (C) 1556 (D) 1576
9. बबे माइथायआव अकबर आरो हेमूनि गेजेराव पानीपतनि 2 थि दावहाया जायामोन ?
 (A) 1526 (B) 1536
 (C) 1556 (D) 1576
9. पानीपत की दूसरी लड़ाई अकबर और हेमू के बीच वर्ष _____ में हुई थी ।
 (A) 1526 (B) 1536
 (C) 1556 (D) 1576
9. The second battle of Panipat fought between Akbar and Hemu was in the year
 (A) 1526 (B) 1536
 (C) 1556 (D) 1576

10. ভাৰতৰ নিৰ্বাচন আয়োগে ভাৰতৰ বিধানসভা নিৰ্বাচনত কেতিয়া পোনপ্ৰথমবাৰৰ বাবে ভোটদানৰ বিকল্প সমূহত “ওপৰৰ এটাও নহয় (NOTA)” বিকল্পটো বলবৎ কৰিছিল ?
 (A) আগষ্ট, 2012 (B) নৱেম্বৰ, 2013
 (C) জানুৱাৰী, 2015 (D) অক্টোবৰ, 2014
10. भारतीय निर्वाचन आयोग भारतेर विधानसभा निर्वाचने कखन प्रथमबाबेर मत भोटेर विकल्प हिसेबे “उपरेर केउई ना” (NOTA) प्रयोग करेछिल ?
 (A) आगस्ट, 2012 (B) नभेम्बर, 2013
 (C) जानुवारी, 2015 (D) अक्टोबर, 2014



10. भारतनि एसेमब्लि बिसाइख'आव माब्ला भारतारि बिसाइख आयोगआ भोटिं सायखनाय आव "गोजौनि मोनसेबो नडा" (NOTA) खौ गिबिखेबनि थाखाय बाहायफुंदोमोन ?
- (A) आगस्त, 2012 (B) नवम्बर, 2013
(C) जानवारी, 2015 (D) अक्टूबर, 2014
10. भारत के चुनाव आयोग ने भारत में विधानसभा चुनावों में मतदान विकल्प में "उपरोक्त में से कोई नहीं (नोटा)" पहली बार कब लागू किया ?
- (A) अगस्त, 2012 (B) नवम्बर, 2013
(C) जनवरी, 2015 (D) अक्टूबर, 2014
10. When did the Election Commission of India first enforce the "None Of The Above (NOTA)" in the voting option in the assembly election in India ?
- (A) August, 2012 (B) November, 2013
(C) January, 2015 (D) October, 2014

11. 'आन्तःराष्ट्रीय न्यायालय' मूख्य कार्यालय' कोन ठाईत अरस्थित ?
- (A) पेबिह (B) द्य हेग
(C) राश्विंटेन डि.चि. (D) निउ ईयर्क
11. 'आन्तर्जातिक न्याय विचार आदालत' एर सदरदण्ठर कोथाय अरस्थित ?
- (A) प्यारिस (B) हेग (The Hague)
(C) ग्याश्विंटेन डिसि (D) निउईयर्क
11. हायुंगेजेरारि बिजिरसालिनि गाहाइ मावख' आ बहा दं ?
- (A) पेरिस (B) द हेग
(C) वाशिंगटन (D) न्यूयार्क
11. अंतर्राष्ट्रीय न्यायालय का मुख्यालय कहाँ स्थित है ?
- (A) पेरिस (B) हेग
(C) वाशिंगटन (D) न्यूयार्क
11. Where is the Headquarters of the International Court of Justice located ?
- (A) Paris (B) The Hague
(C) Washington D.C. (D) New York

12. बाओलाट आइनत निम्नलिखित समूह' कोनटो पदक्षेप अन्तर्भूक्त आछिल ?
- (A) बिदेशी सामग्री' बाध्यतामूलक क्रय (B) खादी बज्र परिधानत सीमाबद्धता
(C) बिचार अविहने कारावास (D) बिदेश भ्रमणत सीमाबद्धता
12. नीचे उल्लेखित कोन पदक्षेप' बाओलाट आइन अन्तर्भूक्त करेछिल ?
- (A) बिदेशी पण्य किनते बाध्य करा (B) खादी परार उपर निषेधाज्ञा
(C) बिना बिचारे कारावास (D) बिदेश भ्रमणे निषेधाज्ञा



12. रौलत आयेनआव गाहायनि बबे खान्थिखौ सोफानाय जादोमोन ?
 (A) गुबुन हादरारि बेसाद बायनायखौ बोलोहोसारनाय (B) खादि जोमनायखौ होबथानाय
 (C) बिसारखालामाबाला जोबथेसालिआव दोननाय (D) गुबुन हादरआव दावबायनायखौ होबथानाय
12. रॉलेट एक्ट में निम्नलिखित में से कौन सा कदम शामिल किया गया था ?
 (A) विदेशी सामान खरीदने की मजबूरी (B) खादी पहनने पर प्रतिबंध
 (C) मुकदमे के बिना कारावास (D) विदेश यात्रा पर प्रतिबंध
12. Which one of the following steps did the Rowlatt Act incorporate ?
 (A) Forced to buy foreign goods (B) Restriction on wearing Khadi
 (C) Imprisonment without trial (D) Restriction on travelling abroad
-
13. ভাৰতৰ উচ্চতম ন্যায়ালয়ে কোন বৰ্ষত প্ৰথম গৰাকী মহিলা ন্যায়াধীশক নিযুক্তি দিছিল আৰু কাক নিযুক্তি প্ৰদান কৰিছিল ?
 (A) 1985, আৰ. ভানুমতী (B) 1987, ইন্দু মলহোত্ৰা
 (C) 1989, ফাতিমা বিবি (D) 1992, ইন্দিৰা বেনাৰ্জী
13. ভারতের উচ্চতম ন্যায়ালয় কোন বৎসর এবং কাকে প্ৰথম মহিলা ন্যায়াধীশ নিযুক্ত করেছিল ?
 (A) 1985, আৰ. ভানুমতী (B) 1987, ইন্দু মালহোত্ৰা
 (C) 1989, ফাতিমা বিবি (D) 1992, ইন্দিৰা ব্যানার্জী
13. भारतनि गोजौसिन विजिरसानि गिबि आइजो बिसारगिरिखौ माबला थिसनआ मोन आरो बिथानि मुंआ मा मोन ?
 (A) 1985, आर. भानुमथि (B) 1987, इंदु मल्होत्रा
 (C) 1989, फातिमा बीबी (D) 1992, इंदिरा बनर्जी
13. भारत के सर्वोच्च न्यायालय ने किस वर्ष में अपनी पहली महिला न्यायाधीश की नियुक्ति की और किसे नियुक्त किया ?
 (A) 1985, आर. भानुमती (B) 1987, इंदु मल्होत्रा
 (C) 1989, फातिमा बीबी (D) 1992, इंदिरा बनर्जी
13. In which year did the Supreme Court of India appoint its first woman judge and whom did it appoint ?
 (A) 1985, R. Bhanumathi (B) 1987, Indu Malhotra
 (C) 1989, Fatima Beevi (D) 1992, Indira Banerjee
-
14. কোন চনত ভাৰতবৰ্ষত ভোটাধিকাৰ লাভ কৰাৰ ন্যূনতম বয়স 21 বছৰৰ পৰা 18 বছৰলৈ হ্রাস কৰা হয় ?
 (A) 1986 (B) 1988
 (C) 1990 (D) 1992
14. ভারতে ভোটাধিকাৰ প্ৰয়োগেৰ সৰ্বনিম্ন বয়স 21 বৎসৰ থেকে 18 বৎসৰ কৰা হৈছিল কত সালে ?
 (A) 1986 (B) 1988
 (C) 1990 (D) 1992



14. भारतआव भोटिं मोनथाइख्रौ मोननो थाखाय नांगौ बाडाइथा बैसोख्रौ 21 बासोरनिफ्राय 18 बोसोरसिम बबे माइथायाव खमाइनाय जायामोन ?
- (A) 1986 (B) 1988
(C) 1990 (D) 1992
14. भारत में मतदान का अधिकार प्राप्त करने की न्यूनतम आयु को किस वर्ष में 21 वर्ष से घटाकर 18 वर्ष कर दिया गया था ?
- (A) 1986 (B) 1988
(C) 1990 (D) 1992
14. The minimum age for acquiring voting right in India was reduced from 21 years to 18 years, in the year
- (A) 1986 (B) 1988
(C) 1990 (D) 1992

-
15. কোনটো বর্ষত বৃটিছে ভাৰতৰ ৰাজধানী কলিকতাৰ পৰা দিল্লীলৈ স্থানান্তৰ কৰিছিল ?
- (A) 1911 (B) 1913
(C) 1907 (D) 1910
15. বৃটিশ সরকার কোন বৎসর ভারতের রাজধানী কোলকাতা থেকে দিল্লীতে স্থানান্তরিত করেছিল?
- (A) 1911 (B) 1913
(C) 1907 (D) 1910
15. বৰে মাइथायआव ब्रिटिशआ भारतनि राजथावनिख्रौ कलकत्तानिफ्राय दिल्लीआव लाडामोन ?
- (A) 1911 (B) 1913
(C) 1907 (D) 1910
15. अंग्रेजों ने किस वर्ष भारत की राजधानी को कोलकाता से दिल्ली स्थानांतरित किया था ?
- (A) 1911 (B) 1913
(C) 1907 (D) 1910
15. In which year did the British transfer the capital of India from Calcutta to Delhi ?
- (A) 1911 (B) 1913
(C) 1907 (D) 1910

-
16. চুংমুংৰ ৰাজত্বকালত আহোম সেনাৰ সেনাপতি তথা মূলা গাভৰুৰ স্বামীৰ নাম :
- (A) পূৰ্ণানন্দ বুঢ়াগোহাঁই (B) ফ্রাচেনমুঙ বৰগোহাঁই
(C) খামচেন বৰগোহাঁই (D) কনচেং বৰপাত্র গোহাঁই
16. চুংমুং এর রাজত্বকালে আহোম সামরিক প্রধান এবং মূলা গাভৰুৰ স্বামী ছিলেন :
- (A) পূৰ্ণানন্দ বুঢ়াগোহাঁই (B) ফোসেনমুং বৰগোহাঁই
(C) খামসেন বৰগোহাঁই (D) কনসেং বৰপাত্র গোহাঁই



16. चुहुंमुनि राइज्यो खुंथाइ समाव आह'म सान्त्रि हान्जानि गाहाइ आरो मुला गाभरुनि फिसाइनि मुंआ मा मोन ?
 (A) परमानन्द बुढागोहाइ (B) फ्रासेनमुं बरगोहाइ
 (C) खामसेन बरगोहाइ (D) कनसें बरपात्र गोहाइ
16. चुहुंगमुंग के शासन काल के दौरान आहोम सेना के प्रमुख और मुला गाभरु के पति थे -
 (A) पूर्णानंद बुढागोहाई (B) फ्रासेनमुंग बरगोहाई
 (C) खामसेन बरगोहाई (D) कंसेंग बरपात्र गोहाई
16. The Chief of the Ahom Military during the reign of Chuhungmung and the husband of Mula Gabhoru was
 (A) Purnananda Buragohain (B) Frashenmung Bor Gohain
 (C) Khamsen Borgohain (D) Konseng Borpatra Gohain

17. কোন চনত “গভর্নৰ জেনেৰেল অব ইণ্ডিয়া”ক “ভাইচৰয়” উপাধি দিয়া হৈছিল ?
 (A) 1867 (B) 1858
 (C) 1876 (D) 1905
17. ভারতের গভর্নর জেনারেলকে ‘ভাইসরয়’ শিরোনাম কোন বৎসরে দেওয়া হয়েছিল ?
 (A) 1867 (B) 1858
 (C) 1876 (D) 1905
17. बबे माइथायआव ‘वाइस्राई’ बिमुंख्रौ ‘भारतनि गवर्नर जनरल’ नो होनाय जादोंमोन ?
 (A) 1867 (B) 1858
 (C) 1876 (D) 1905
17. किस वर्ष में भारत के गवर्नर जनरल को ‘वायसराय’ की उपाधि दी गई थी ?
 (A) 1867 (B) 1858
 (C) 1876 (D) 1905
17. In which year the title ‘Viceroy’ was given to ‘Governor General of India’ ?
 (A) 1867 (B) 1858
 (C) 1876 (D) 1905

18. নিম্নলিখিত কোনটো সাংবিধানিক ব্যৱস্থাৰ আধাৰত বডোলেণ্ড টেৰিট’ৰিয়েল কাউঞ্চিল’ৰ সৃষ্টি হৈছে ?
 (A) দ্বিতীয় অনুসূচী (B) সপ্তম অনুসূচী
 (C) ষষ্ঠ অনুসূচী (D) পঞ্চম অনুসূচী
18. নিম্নে উল্লেখিত কোন সংবিধানিক বিধান এর ফলে বডোলেণ্ড আঞ্চলিক পরিষদ গঠিত হয়েছিল ?
 (A) দ্বিতীয় তফসিল (B) সপ্তম তফসিল
 (C) ষষ্ঠ তফসিল (D) পঞ্চম তফসিল
18. बडलेण्ड हायुंआरि गौथुमआ बबे संबिजितआरि राहानि मोनसे फिथाइ ?
 (A) नैथि फारि (B) स्निथि फारि
 (C) द'थि फारि (D) बाथि फारि



18. बोडोलैंड प्रादेशिक परिषद निम्नलिखित किस संवैधानिक प्रावधान का परिणाम है ?
 (A) दूसरी अनुसूची (B) सातवीं अनुसूची
 (C) छठी अनुसूची (D) पाँचवीं अनुसूची
18. Bodoland Territorial Council is a result of which of the following Constitutional provisions ?
 (A) Second Schedule (B) Seventh Schedule
 (C) Sixth Schedule (D) Fifth Schedule
-
19. पाकईयंग विमान-बन्दरटो क'त अरस्थित ?
 (A) अरुणाचल प्रदेश (B) चिक्किम
 (C) मणिपुर (D) मिजोराम
19. पाकईयंग (Pakyong) विमानबन्दर अवस्थित :
 (A) अरुणाचल प्रदेश (B) सिक्किम
 (C) मणिपुर (D) मिजोराम
19. पाक्योंग उराबन्दरआ बहा दं ?
 (A) अरुणाचल प्रदेश (B) सिक्किम
 (C) मणिपुर (D) मिजोराम
19. पक्योंग हवाई अड्डा कहाँ स्थित है ?
 (A) अरुणाचल प्रदेश (B) सिक्किम
 (C) मणिपुर (D) मिजोराम
19. Pakyong airport is located in
 (A) Arunachal Pradesh (B) Sikkim
 (C) Manipur (D) Mizoram
-
20. हब्रग्ला खननब सकलो शूलते उमैहतीया भारे प्राणु प्राणीब चित्रटि हैछे :
 (A) एशिडीया यॉड (B) गाय
 (C) हाती (D) बाघ
20. हरग्लान निदर्शन थाका स्थानगुलोते सब थेके बेशी ये प्राणीर चित्र पाओया याय :
 (A) एकशिथ्युक्त यॉड (B) गाडी
 (C) हाति (D) बाघ
20. हडप्पा थावनियाव बइनिखुइ बांसिन सरासनम्रायै नुनो मोननाय जुनारनि दाथाइआ मा ?
 (A) थंसे गंगोनां हालुवा मोसौ (B) मोसौ गाइ
 (C) मैदेर (D) मोसा
20. सभी हडप्पा स्थलों पर पाए जाने वाली सबसे आम पशु आकृति है :
 (A) एक सींगी बैल (B) गाय
 (C) हाथी (D) बाघ
20. The most common animal figure found at all the Harappan sites is the
 (A) Unihorn bull (B) Cow
 (C) Elephant (D) Tiger



21. অলিম্পিকৰ পতাকাখনত কেইটা আঙঠিৰ চিত্ৰ আছে ?
(A) 4 (B) 5
(C) 6 (D) 7
21. অলিম্পিকৰ পতাকাতে মোট কয়টি বৃত্ত (rings) আছে ?
(A) 4 (B) 5
(C) 6 (D) 7
21. অলিম্পিক ফিৰফিলাআব মনবেসে বেঁখন দং ?
(A) 4 (B) 5
(C) 6 (D) 7
21. অলিম্পিক ধ্বজ মেন্ কিতনে छल्ले होते हैं ?
(A) 4 (B) 5
(C) 6 (D) 7
21. How many rings are there on the Olympics flag ?
(A) 4 (B) 5
(C) 6 (D) 7
-

22. আৰ্জেণ্টিনাৰ ৰাজধানী চহৰ হৈছে :
(A) বুৱেন'ছ এয়াৰ্ছ (B) ছেন্টিয়াগো
(C) বোগোটা (D) লিমা
22. আৰ্জেণ্টিনাৰ ৰাজধানী শহৰ হল :
(A) বুয়েনস এয়াৰেস (Buenos Aires) (B) সেন্টিয়োগো (Santiago)
(C) বগতা (Bogota) (D) লিমা (Lima)
22. অৰ্জেন্টিনাৰ ৰাজধানী নগৰমায়া মা ?
(A) ব্লুনস অয়ৰ্ছ (B) সেন্টিয়াগো
(C) বোগোটা (D) লিমা
22. অৰ্জেন্টিনা কা ৰাজধানী শহৰ হৈ :
(A) ব্লুনস আয়ৰ্ছ (B) সেন্টিয়াগো
(C) বোগোটা (D) লিমা
22. The capital city of Argentina is
(A) Buenos Aires (B) Santiago
(C) Bogota (D) Lima
-



23. এয়াৰ এচিয়াৰ মূখ্য কাৰ্যালয় ক'ত অৱস্থিত :
- (A) মুম্বাই (B) কুৱালালামপুৰ
(C) জাকাৰ্টা (D) বেংকক
23. এয়াৰ এশিয়াৰ সদৰ দপ্তৰ হ'ল
- (A) মুম্বাই (B) কুয়ালা লামপুৰ
(C) জাকাৰ্তা (D) ব্যাংকক
23. এয়ৰ এশিয়ানি গাহাই মাভু' আৰু বহা দ ?
- (A) মুম্বাই (B) কুআলালামপুৰ
(C) জকাৰ্তা (D) বেঁকাক
23. এয়ৰ এশিয়া কা মুখ্যালয় _____ মেন্ হৈ ।
- (A) মুম্বই (B) ক্বালালামপুৰ
(C) জকাৰ্তা (D) বেঁকাক
23. Air Asia has its headquarters in
- (A) Mumbai (B) Kuala Lumpur
(C) Jakarta (D) Bangkok

-
24. নিম্নলিখিত কোনটো, কম্পিউটাৰৰ এক অপাৰেটিং ছিষ্টেম নহয় ?
- (A) উইণ্ড'জ-11 (B) লিনাক্স
(C) মাইক্ৰ'ছফ্ট অফিচ (D) উবুন্টু
24. নীচের কোনটি কম্পিউটাৰের অপারেটিং পদ্ধতি নয় ?
- (A) উইন্ডোজ 11 (B) লিনাক্স
(C) মাইক্ৰোসফ্ট অফিস (D) উবুন্টু
24. গাহায়নি ববে মোনসেআ কম্পিউটাৰনি অপারেটিং সিস্টেম নহা ?
- (A) উইন্ডোজ 11 (B) লিনাক্স
(C) মাইক্ৰোসফ্ট অফিস (D) উবুন্টু
24. निम्न में से कौन सा कंप्यूटर के लिए ऑपरेटिंग सिस्टम नहीं है ?
- (A) विंडोज 11 (B) लिनक्स
(C) माइक्रोसॉफ्ट ऑफिस (D) उबंटू
24. Which of the following is not an operating system for Computers ?
- (A) Windows 11 (B) Linux
(C) Microsoft Office (D) Ubuntu



25. নিম্নলিখিত সমূহৰ কোনটোক বৰ্তমান সময়ত ভাৰতবৰ্ষৰ সৰ্বোচ্চ হিমালয় শৃঙ্গ হিচাপে বিবেচনা কৰা হয় ?
 (A) কাঞ্চনজংঘা (B) নন্দা দেৱী
 (C) কামেট (D) মানা
25. নিম্নে উল্লেখিত কোনটিকে বৰ্তমান ভাৰতে অবস্থিত হিমালয়ৰ সৰ্বোচ্চ পৰ্বতশৃঙ্গ হিসেবে গণ্য কৰা হয় ?
 (A) কাঞ্চনজংঘা (B) নন্দা দেৱী
 (C) কামেট (D) মানা
25. গাহায়নি বৰেআ আখিখালাব ভাৰতনি জৌসিন হিমালয়াৰি থিখিনি গনায় জায়ো ?
 (A) কাঞ্চনজংঘা (B) নন্দা দেৱী
 (C) কামেট (D) মনা
25. निम्नलिखित में से किसे वर्तमान में भारत का सबसे ऊँचा हिमालय शिखर माना जाता है ?
 (A) कंचनजंगा (B) नंदा देवी
 (C) कामेट (D) माना
25. Which of the following is presently considered as the highest Himalayan peak of India ?
 (A) Kanchenjunga (B) Nanda Devi
 (C) Kamet (D) Mana
-
26. কোনখন পৌৰাণিক ভূগৰ্ভস্থ নদী প্ৰয়াগৰাজৰ ত্ৰিবেণী সঙ্গমত গংগা আৰু যমুনা নদীৰ সৈতে মিলন হোৱা বুলি গণ্য কৰা হয় ?
 (A) ভাগীৰথী (B) অলকানন্দা
 (C) সরস্বতী (D) শতদ্ৰু
26. প্ৰয়াগৰাজেৰ (প্ৰয়াগ, এলাহাবাদ) ত্ৰিবেণী সঙ্গমে কোন পৌৰাণিক ভূগৰ্ভস্থ নদী গঙ্গা এবং যমুনাৰ সঙ্গে মিলিত হয়েছে ?
 (A) ভাগীৰথী (B) অলকানন্দা
 (C) সরস্বতী (D) শতদ্ৰু
26. প্ৰয়াগৰাজ (আগোলনি অলাহাবাদনি প্ৰয়াগ) নি ত্ৰিবেণি সংমআব গংগা আরো जमुना दैमाजों लोगो जानाय हसिंनि दैमा (सानना लानाय) नि मुंआ मा ?
 (A) भागीरथी (B) अलकानन्दा
 (C) सरस्वती (D) शतद्रु
26. प्प्रयागराज के त्रिबेणी संगम (पूर्व में इलाहाबाद का प्रयाग) में किस पौराणिक भूमिगत नदी को गंगा और यमुना में मिला हुआ माना जाता है ?
 (A) भागीरथी (B) अलकनंदा
 (C) सरस्वती (D) शतद्रु



26. Which mythical underground river is considered to have joined Ganga and Yamuna at Triveni Sangam of Prayagraj (formerly Prayag of Allahabad) ?
- (A) Bhagirathi (B) Alakananda
(C) Saraswati (D) Satadru
-

27. নিম্নলিখিত কোনবিধক কেৰেট এককত জোখা হয় ?

- (A) তীখাৰ দণ্ড (B) দুগ্ধৰ চৰ্বিভাগ
(C) কেশৰ (D) সোণ

27. নিম্নে উল্লেখিত কোনটি ক্যাৰেটে মাপা হয় ?

- (A) ষ্টীলৰ দণ্ড (B) দুগ্ধৰ চৰ্বি
(C) জাফৰান (D) সোনা

27. गाहायनि बबेख्रौ केरट जों सुनाय जायो ?

- (A) स्टिलनि लाउथि (B) गाइखेर लट्टे
(C) सैफ्रन (केसर) (D) सना

27. निम्नलिखित में से किसे कैरेट में मापा जाता है ?

- (A) स्टील की छड़ी (B) दुग्ध वसा
(C) केसर (D) सोना

27. Which of the following is measured in Carats ?

- (A) Steel rod (B) Milk fat
(C) Saffron (D) Gold
-

28. অধ্যয়নৰ কোনটো শাখাই জীৱাণুৰ ওপৰত ভিত্তি কৰি পৃথিৱীপৃষ্ঠত জীৱৰ ক্ৰমবিকাশৰ বিষয়বস্তু সামৰি লয় ?

- (A) পেলিয়েন্ট'লজি (B) আৰ্কিঅ'লজি
(C) জিঅ'লজি (D) জিঅ'মৰফ'লজি

28. জীৱাশ্মৰ (fossil) উপৰ ভিত্তি কৰে পৃথিৱীতে জীৱনৰ ইতিহাস কোন অধ্যয়ন শাখা স্থিৰ কৰে ?

- (A) জীৱাশ্মবিজ্ঞান (Palaeontology) (B) প্ৰত্নতত্ত্ব (Archaeology)
(C) ভূতত্ত্ব (Geology) (D) ভূৰূপবিদ্যা (Geomorphology)

28. बेगेन्थाइख्रौ बिथा ख्रालामना बुहुमआव थानाय जिवनि जारिमिनजों बबे फरायनायनि बिफानहा लोब्बा दं ?

- (A) पेलीअन्तालजी (B) आर्कीआलजी
(C) जीआलजी (D) जॉमोरफोलॉजी



28. अध्ययन की कौन सी शाखा जीवाश्मों के आधार पर पृथ्वी पर जीवन के इतिहास से संबंधित है ?
- (A) जीवाश्म विज्ञान (B) पुरातत्त्व विज्ञान
(C) भूगर्भ शास्त्र (D) भू-आकृति विज्ञान
28. Which branch of study deals with the history of life on Earth as based on fossils ?
- (A) Palaeontology (B) Archaeology
(C) Geology (D) Geomorphology
-
29. বায়ুমণ্ডলীয় চাপ জুখিবৰ বাবে কোনবিধ যন্ত্ৰ ব্যৱহাৰ কৰা হয় ?
- (A) নেনোমিটাৰ (B) বেৰোমিটাৰ
(C) অল্টিমিটাৰ (D) হাইড্ৰোমিটাৰ
29. বায়ুমণ্ডলীয় চাপ মাপাৰ জন্য কোন যন্ত্ৰটি ব্যবহৃত হয় ?
- (A) নেনোমিটার (B) ব্যারোমিটার
(C) অল্টিমিটার (D) হাইড্ৰোমিটার
29. বৰ্বে আइर्जेर्जो आबहावारी नारथायख्रौ सुयो ?
- (A) नेन'मीटर (B) बैरोमीटर
(C) ऐल्टीमीटर (D) हाइड्रोमीटर
29. वायुमंडलीय दबाव को मापने के लिए किस उपकरण का उपयोग किया जाता है ?
- (A) नैनोमीटर (B) बैरोमीटर
(C) अल्टीमीटर (D) हाईड्रोमीटर
29. Which instrument is used to measure atmospheric pressure ?
- (A) Nanometer (B) Barometer
(C) Altimeter (D) Hydrometer
-
30. খো-খো খেলত চেজিং টিমৰ কিমানজন সদস্যই খেলাপথাৰত প্ৰবেশ কৰি আঁঠুৰ ভৰত বহি থাকে ?
- (A) আঠজন (B) দহজন
(C) নজন (D) সাতজন
30. খো-খো খেলাতে তাড়া কৰা দলের কত জন সদস্য মাঠে প্ৰবেশ কৰে হাঁটু মোড়ে বসে ?
- (A) আট (B) দশ
(C) নয় (D) সাত
30. खो खो गेलेनाव होसोग्रा हानजानि साबेसे सोद्रोमाया फोथाराव हाबो आरो गावसोरनि हान्थुर्जो जिरायो ?
- (A) दाइन (B) जि
(C) गु (D) स्नि



30. खो-खो के खेल में, पीछा करने वाली टीम के कितने सदस्य मैदान में प्रवेश करते हैं और घुटनों के बल बैठते हैं ?
(A) आठ (B) दस
(C) नौ (D) सात
30. In a game of Kho Kho, how many members of chasing team enters the field and sit on their knees ?
(A) Eight (B) Ten
(C) Nine (D) Seven
-

31. নিম্নলিখিত কোনবিধ ভাৰতবৰ্ষৰ থলুৱা নহয় ?
(A) চিম্পাঞ্জী (B) এশিঙীয়া গঁড়
(C) নল-গাহৰি (D) নাহৰফুটুকী বাঘ
31. নিম্নে উল্লেখিত কোনটি ভাৰতের স্থানীয় নয় ?
(A) শিম্পাঞ্জী (B) এক খড়্গযুক্ত গণ্ডার
(C) পিগমি শূকর (D) চিতা বাঘ
31. गाहायनि बबेआ भारतनि जोनोम जायगारि नडा ?
(A) चिंपांजी (B) गंसे गंगोनां गान्दा
(C) अमा थाउखि (D) लख्रा
31. निम्नलिखित में से कौन भारत का मूल निवासी नहीं है ?
(A) चिंपांजी (B) एक सींग वाला गैंडा
(C) पिग्मी हाँग (D) तेंदुआ
31. Which of the following is not native to India ?
(A) Chimpanzee (B) One Horned Rhino
(C) Pygmy Hog (D) Leopard
-

32. আনুষ্ঠানিক ঘোষণা অনুযায়ী ভাৰতৰ ৰাষ্ট্ৰীয় বৃক্ষ কোনবিধ ?
(A) দেবদারু (B) বটগছ
(C) আঁহত (D) নিম
32. সরকারীভাবে কোনটি ভাৰতের জাতীয় গাছ ?
(A) দেবদারু (B) বট
(C) অশ্বথ (D) নিম
32. भारतनि हादरारि दंफांआ मा ?
(A) देबदारु (B) धप (Banyan tree)
(C) फाखि (D) नीम



32. आधिकारिक तौर पर भारत का राष्ट्रीय वृक्ष कौन सा है ?

- (A) देवदार (B) बरगद
(C) पीपल (D) नीम

32. Which is officially the National tree of India ?

- (A) Deodar (B) Banyan
(C) Peepal (D) Neem

33. “अ’ग्लेज गोण्जा बोयाजु”ब अधिक जनप्रिय नामटो कि :

- (A) मीराबेन (B) अरुन्धति बय
(C) मादर टेरेसा (D) भग्नी निवेदिता

33. अग्निस गण्जा बोजाबिउके (Agnes Gonxha Bejaxhui) बेशी जनप्रियताबे जाना याय :

- (A) मीराबेन (B) अरुन्धती राय
(C) मादर टेरेसा (D) सिस्टर निवेदिता

33. गाहायनि बबेर्जो अगनेस गोण्जा बोयाजिजु आ बांसिनयै मिथिजायो ?

- (A) मिराबेन (B) अरुन्धति राय
(C) मादर टेरेसा (D) सिस्टर निवेदिता

33. जिस नाम से एनेस गोंक्सा बेजाक्षिउ को अधिक लोकप्रिय रूप में जाना जाता है :

- (A) मीराबेन (B) अरुन्धति राय
(C) मद्र टेरेसा (D) सिस्टर निवेदिता

33. Agnes Gonxha Bejaxhui has been more popularly known as

- (A) Miraben (B) Arundhati Roy
(C) Mother Teresa (D) Sister Nivedita

34. कौन गबाकी ब्यक्तिने टेलिग्राफर संकेत आरिक्काब कबिछिल ?

- (A) बेङ्गामिन फ्रेक्कलिन (B) चेमुबेल म'र्छ
(C) एलबार्ट आइनस्टाइन (D) ज'न बेयार्ड

34. के टेलिग्राफेर जन्य संकेत उड्ढाबन करेछिलेन ?

- (A) बेङ्गामिन फ्राक्कलिन (B) स्यामुयेल मरसे
(C) आलबार्ट आइनस्टाइन (D) जन बेयार्ड

34. सोर टेलीग्राफनि थाखाय कोडस (Codes) खौ दिहुनग्रोआ मोन ?

- (A) बेङ्गामिन फ्रैकलिन (B) सैमुअल मोर्स
(C) आल्बर्ट आइन्स्टाइन (D) जॉन बेयर्ड



34. टेलीग्राफ के लिए कोड का आविष्कार किसने किया ?
 (A) बेंजामिन फ्रैंकलिन (B) सैमुअल मोर्स
 (C) अल्बर्ट आइन्स्टाइन (D) जॉन बेयर्ड
34. Who invented the codes for Telegraph ?
 (A) Benjamin Franklin (B) Samuel Morse
 (C) Albert Einstein (D) John Baird
-
35. अरुणाचल प्रदेश पूर्वेत नैफा (NEFA) नामेब जनजात आछिल । NEFA ब पूर्णरूपटो हैछे :
 (A) North-East Frontier Area (B) North-East Frontier Assembly
 (C) North-East Frontier Activity (D) North-East Frontier Agency
35. अरुणाचल प्रदेशेब पूर्वेब नाम NEFA ब पूर्ण रूप की ?
 (A) North-East Frontier Area (B) North-East Frontier Assembly
 (C) North-East Frontier Activity (D) North-East Frontier Agency
35. आगोलाब अरुणाचल प्रदेशखी मिथिजानाय NEFA नि आबुं ओथिआ मा ?
 (A) North-East Frontier Area (B) North-East Frontier Assembly
 (C) North-East Frontier Activity (D) North-East Frontier Agency
35. NEFA का पूर्ण रूप क्या है – जैसा कि अरुणाचल प्रदेश को पहले जाना जाता था ?
 (A) North-East Frontier Area (B) North-East Frontier Assembly
 (C) North-East Frontier Activity (D) North-East Frontier Agency
35. What is the full form of NEFA – as Arunachal Pradesh was known earlier ?
 (A) North-East Frontier Area (B) North-East Frontier Assembly
 (C) North-East Frontier Activity (D) North-East Frontier Agency
-
36. निम्नलिखित कोनटो उंत्सब मूख्यतः केबालात पालन कबा ह'य ?
 (A) देबाली (B) अ'नाम
 (C) पोङ्गल (D) लोहरी
36. निम्नेब कोन उंत्सबटि प्रधानतः केबालाते उदयापन कबा हय ?
 (A) दीपाबलि (B) ङनाम
 (C) पोङ्गल (D) लोहरी
36. गाहायनि बबे मोनसे फोरबोखी केरेलाआब फालियो ?
 (A) देबाली (B) अनाम
 (C) पोंगल (D) लोहरी



36. निम्नलिखित में से कौन सा त्योहार मुख्य रूप से केरल में मनाया जाता है ?
(A) दिवाली (B) ओणम
(C) पोंगल (D) लोहड़ी
36. Which of the following festival is mainly celebrated in Kerala ?
(A) Diwali (B) Onam
(C) Pongal (D) Lohri
-

37. जूबिन गार्गे कोनखन बोलचवित मूख्य भूमिकेत अभिनय करिखिल ?
(A) मिशुन चरईनर (B) मिशुन कश्मीर
(C) मिशुन चेरनरई (D) मिशुन करबुल
37. कून चलछिचुरे जूबिन गरुग प्ररुधरन पूरुखुष चरिचुरे अभिनय करेरिखिलेन ?
(A) मिशुन चरयनर (B) मिशुन कश्मीर
(C) मिशुन चेरनरई (D) मिशुन करबुल
37. बबे सरवथुनरवर जूबिन गरुगररर गररहुरर फरवरगिरि जरदूरीमून ?
(A) मिसन चरईनर (B) मिसन कश्मिर
(C) मिसन चेरनरई (D) मिसन करबुल
37. किस फिल्म में पुरुष प्रधान भूमिका जुबिन गर्ग द्वारा निभाई गई थी ?
(A) मिशन चरईनर (B) मिशन कश्मीर
(C) मिशन चेरनरई (D) मिशन करबुल
37. The male lead role in which movie was played by Zubeen Garg ?
(A) Mission China (B) Mission Kashmir
(C) Mission Chennai (D) Mission Kabul
-

38. 'मरलगुडि डेरईज' कितरपखन कूने लिखिखिल ?
(A) ररर.के. लखुखुण (B) के.ररर. नररररनन
(C) ररर.के. नररररग (D) ररर.के. पणुठि
38. 'Malgudi Days' ग्रुखुठि के लिखेरिखिलेन ?
(A) ररर.के. लखुखुण (B) के.ररर. नररररगन
(C) ररर.के. नररररग (D) ररर.के. पणुठि
38. 'मरलगुडि डेरुज' बिररररखुठू सरर लिरररमून ?
(A) ररर.के. लखुखुमण (B) के. ररर. नररररणं
(C) ररर.के. नररररग (D) ररर.के. पंडित



38. 'मालगुड़ी डेज' की रचना किसने की थी ?

- (A) आर.के. लक्ष्मण (B) के.आर. नारायणन
(C) आर.के. नारायण (D) आर.के. पंडित

38. Who wrote the book 'Malgudi Days' ?

- (A) R.K. Laxman (B) K.R. Narayanan
(C) R.K. Narayan (D) R.K. Pandit

39. ड्रोन हैछे :

- (A) आसुतःनासुतःत्रिक लेजऱाब ढाबणऱसुत (B) बातुरि दृषुति ससुतःनऱ बाऱिनोकुलाब
(C) बणुबऱा बाऱि ऱोरऱा लेणुढऱऱिन डिटेकुतऱब (D) ढऱनऱबऱिहऱन बाऱुडऱन

39. ड्रोन हल :

- (A) आसुतःनासुतःत्रिक लेजऱर असुतऱ (Interstellar laser weapons)
(B) राते दृषुत दूरबीन (Night vision binoculars)
(C) गडिऱे चला बारुद सुरसुतऱ अनुसऱऱनकारिऱ ऱसुतऱ (Crawling land mine detectors)
(D) ढनुषुडऱबऱिहऱन आकाशऱन (Unmanned ariel vehicles)

39. ड्रोन आ जाबाऱ

- (A) इनुतरसुतेलऱ लेजऱर वेपन (B) ढोनऱऱऱव नुनऱऱ दुरबऱिन
(C) ढऱनबाऱऱलऱं गुरऱ लेड ढऱइन बोरऱऱंगुरऱ (D) ढऱनसऱ गऱखुतऱे बऱरऱरऱ रोगऱथऱड

39. ड्रोन हैं :

- (A) इनुतरसुतेलऱ लेजऱर हथऱऱऱर (B) नऱडुत वऱऱन दूरबीन
(C) धऱसुतऱी लेड ढऱऱन डिटेकुतऱर (D) ढऱनव रहऱत हवऱऱई वऱहन

39. Drones are

- (A) Interstellar laser weapons (B) Night vision binoculars
(C) Crawling land mine detectors (D) Unmanned ariel vehicles

40. नऱऱुनऱकुतऱ तऱलऱकऱब थकऱ कऱनगऱकऱी फुटऱबल खेलुऱे आऱऱल ?

- (A) गऱलबऱऱटऱन चऱंगऱऱ (B) कऱरुफऱ'डु बऱऱ
(C) तऱेऱबुनुनेखऱ (D) ढऱऱु बऱऱऱऱ

40. नऱऱुने उल्लेखऱतऱदेर ढधुे के फुटऱबल खेलुऱऱऱड ?

- (A) गऱलबऱऱटऱसन सऱंगऱऱ (B) कऱरुफऱऱडु रऱऱ
(C) तऱेऱबुनुनेसऱ (D) ढऱऱु बडुऱऱऱ

40. गऱहऱऱनऱ फऱरऱऱऱव सऱर सऱसेआ जऱलुऱ गेलेगुरऱढऱन ?

- (A) गऱलबऱऱटऱसन सऱंगऱऱ (B) कऱरऱफेड रऱऱ
(C) तऱेऱबुनुनेसऱ (D) ढऱऱु बरुआ



40. निम्नलिखित सूची में से, एक फुटबॉल खिलाड़ी कौन था ?
(A) गिल्बर्टसन सांग्मा (B) कर्फ्यु रॉय
(C) तैयबुन्नेसा (D) मीठु बरुवा
40. In the following list, who was a football player ?
(A) Gilbertson Sangma (B) Carfew Roy
(C) Tayebunnesa (D) Mithu Baruah
-

41. निम्नलिखित কোনখন ৰাজ্যৰ সীমা অসমৰ সীমাৰ সৈতে সংলগ্ন নহয় ?
(A) নাগালেণ্ড (B) চিক্কিম
(C) মিজোৰাম (D) পশ্চিমবঙ্গ
41. নিম্নে উল্লেখিত কোন ৰাজ্যটি আসামের সঙ্গে সীমানার অংশীদার নয় ?
(A) নাগাল্যাণ্ড (B) সিক্কিম
(C) মিজোরাম (D) পশ্চিমবঙ্গ
41. गाहायनि बबे राइजोआ आसामजो सिमा रानलायलाया ?
(A) नागालेण्ड (B) सिक्किम
(C) मिजोराम (D) सोनाब बेंगल
41. निम्नलिखित में से कौन सा राज्य असम के साथ सीमा साझा नहीं करता है ?
(A) नागालैंड (B) सिक्किम
(C) मिजोरम (D) पश्चिम बंगाल
41. Which of the following states does not share border with Assam ?
(A) Nagaland (B) Sikkim
(C) Mizoram (D) West Bengal
-

42. 2022 वर्षৰ জানুৱাৰী মাহত অসমৰ কোনখন জিলাৰ সৃষ্টি হৈছিল ?
(A) বজালী (B) বাক্সা
(C) তামুলপুৰ (D) হোজাই
42. জানুৱাৰী 2022 সনে আসামে কোন নতুন জেলা হয়েছিল ?
(A) বজালী (B) বাক্সা
(C) তামুলপুৰ (D) হোজাই
42. जानवारी 2022 आव असमनि बबे जिलाखी दाफु आमोन ?
(A) बजाली (B) बाक्सा
(C) तामुलपुर (D) हजाइ



42. जनवरी 2022 में असम का कौन सा जिला बनाया गया था ?
(A) बजाली (B) बाक्सा
(C) तामुलपुर (D) होजाई
42. Which district of Assam was created in January 2022 ?
(A) Bajali (B) Baksa
(C) Tamulpur (D) Hojai
-

43. 2021-22 वर्षेৰ অসমৰ বাজেট কোনে দাখিল কৰিছিল ?
(A) হিমন্ত বিশ্ব শৰ্মা (B) অজন্তা নেওগ
(C) অতুল বৰা (D) বনোজ পেগু
43. 2021-22 वर्षेৰ जन्य आसामेৰ बाजेट के उपस्थापन करेछिलेन ?
(A) हिमन्त विश्व शर्मा (B) अजन्ता नेओग
(C) अतुल बरा (D) रणोज पेगु
43. 2021-22 माइथायनि यासगय आसामनि बाजेटखौ सोर गथायदोमोन ?
(A) हिमन्त बिश्व शर्मा (B) अजन्ता नियोग
(C) अतुल बरा (D) र'नौज पेगु
43. असम में किसने 2021-22 का बजट पेश किया ?
(A) हिमन्त विश्व शर्मा (B) अजन्ता नेओग
(C) अतुल बोरा (D) रणोज पेगु
43. Who presented the Budget for 2021-22 in Assam ?
(A) Himanta Biswa Sarma (B) Ajanta Neag
(C) Atul Bora (D) Ranoj Pegu
-

44. निम्नलिखित कौनखन नदी ब्रह्मपुत्रेब दक्षिण पाबत आछे ?
(A) मानाह (B) सोरगशिबि
(C) दिखौ (D) बङानदी
44. निम्ने उल्लेखित नदीगुलिब मध्ये कौनटि ब्रह्मपुत्रे नदेब दक्षिण तीरे अबस्थित ?
(A) मानस (B) सुबगसिँडि
(C) दिखौ (D) राङानदी
44. गाहायनि बबे दैमाया बुरलुंबुथुर दैमानि खोला रुगुआव दं ?
(A) मानस (B) सुबनसिँडि
(C) दिखौ (D) रङानदी



44. निम्नलिखित में से कौन सी नदी ब्रह्मपुत्र नदी के दक्षिणी तट पर स्थित है ?
(A) मानस (B) सुबनसिरी
(C) दिखौ (D) रंगानदी
44. Which of the following river is on the south bank of River Brahmaputra ?
(A) Manas (B) Subansiri
(C) Dikhow (D) Ranganadi

-
45. निम्नलिखित समूहों में से कौनसा है आटाईतकै पुर्बणि उतुपदन केन्द्र ?
(A) डिगबै शोधनागार (B) नुमलीगड़ शोधनागार
(C) बङ्गाईगाँव शोधनागार (D) गुवाहाटी शोधनागार

45. निम्ने उल्लेखितदेर मध्ये कौनटि प्राचीनतम उतुपदन केन्द्र ?
(A) डिगबय शोधनागार (B) नुमलिगड़ शोधनागार
(C) बङ्गाईगाँव शोधनागार (D) गुवाहाटी शोधनागार

45. गाहायनि बबे मोनसे आ गोजामसिन माव दिहुनथाय दामिन ?
(A) डिगबै सोदांसालि (B) नुमलीगड़ सोदांसालि
(C) बङ्गाईगाव सोदांसालि (D) गुवाहाटी सोदांसालि

45. निम्नलिखित में से कौन सी सबसे पुरानी उत्पादन इकाई है ?
(A) दिगबोई रिफाइनरी (B) नुमालीगढ़ रिफाइनरी
(C) बोंगाईगाँव रिफाइनरी (D) गुवाहाटी रिफाइनरी
45. Which one amongst the following is the oldest production unit ?
(A) Digboi Refinery (B) Numaligarh Refinery
(C) Bongaigaon Refinery (D) Guwahati Refinery

-
46. निम्नलिखित समूहों में से कौनसा है इउनेस्को (UNESCO) श्वीकृत ऐतिह्य केन्द्र कौनटो ?
(A) माजुली नदी द्वीप (B) शुबालकुचि
(C) कामाख्या मन्दिर (D) मानाह बाश्चिय उदयान

46. निम्ने उल्लेखितदेर मध्ये कौनटि UNESCO एर ऐतिह्यबाही स्थान ?
(A) माजुली नदी द्वीप (B) शुबालकुचि
(C) कामाख्या मन्दिर (D) मानस राश्चिय उदयान

46. गाहायनि बबेआ UNESCO नि फोलोरारि उन मोनथाइ थावनि ?
(A) माजुली देमा द्वीप (B) सुवालकुछी
(C) कामाख्या मन्दिर (D) मानस अरनारि जिउ हाग्रामा



46. निम्नलिखित में से कौन एक यूनेस्को विरासत स्थल है ?
 (A) माजुली नदी द्वीप (B) सुवालकुचि
 (C) कामाख्या मंदिर (D) मानस राष्ट्रीय उद्यान
46. Which amongst the following is a UNESCO Heritage site ?
 (A) Majuli River Island (B) Sualkuchi
 (C) Kamakhya Temple (D) Manas National Park
-
47. কাজিৰঙা ৰাষ্ট্ৰীয় উদ্যানে নিম্নলিখিত কোনখন জিলাক স্পৰ্শ নকৰে ?
 (A) গোলাঘাট (B) কাৰ্বি আংলং
 (C) নগাঁও (D) মৰিগাঁও
47. নিম্নের কোন জেলাটিকে কাজিরাঙা ৰাষ্ট্ৰীয় উদ্যান স্পৰ্শ কৰেনি ?
 (A) গোলাঘাট (B) কাৰ্বি আংলং
 (C) নগাঁও (D) মৰিগাঁও
47. কাজিৰঙা হাৰুংআৰি পাৰ্কআ বৰে জিলা নি সিমাআব গৈয়া ?
 (A) গোলাঘাট (B) কাৰ্বি আলাং
 (C) নগাব (D) মৰিগাব
47. काजीरंगा राष्ट्रीय उद्यान निम्नलिखित में से किस जिले को नहीं छूता है ?
 (A) गोलाघाट (B) कार्बी आंगलोङ
 (C) नगाँव (D) मोरीगाँव
47. Kaziranga National Park does not touch which of the following districts ?
 (A) Golaghat (B) Karbi Anglong
 (C) Nagaon (D) Morigaon
-
48. শিৱসাগৰৰ নিকটৱৰ্তী দিখৌমুখৰ স'ৰাণ্ডৰি চাপৰিত কোন গৰাকী ব্যক্তিৰ সমাধিস্থল অৱস্থিত ?
 (A) বিষ্ণুপ্ৰসাদ ৰাভা (B) স্বৰ্গদেও চুকাফা
 (C) আজান পীৰ (D) শ্ৰীমন্ত শংকৰদেৱ
48. শিবসাগৰৰ নিকটবৰ্তী দিখৌমুখৰ স'ৰাণ্ডৰি চাপৰিতে কাৰ সমাধিস্থল ?
 (A) বিষ্ণু প্ৰসাদ ৰাভা (B) স্বৰ্গদেউ সূকাফা
 (C) আজান পীৰ (D) শ্ৰীমন্ত শংকৰদেৱ
48. शिबसागर नि साखाथिआव थानाय दिखौमुखनि 'सरागुरि चापरि'आव सोरनि गोथैसालि दं ?
 (A) बिष्णु प्रसाद राभा (B) स्वर्गदेउ चुकाफा
 (C) आजान पिर (D) श्रीमंत शंकरदेव
48. शिबसागर के पास दिखौमुख के सरागुरी चापोरी में किसका विश्राम स्थल है ?
 (A) बिष्णु प्रसाद राभा (B) स्वर्गदेउ स्युकाफा
 (C) अजन पीर (D) श्रीमंत शंकर देव



48. Whose resting place is at Saraguri Chapori at Dikhowmukh, near Sibsagar ?
(A) Bishnu Prasad Rabha (B) Swargadeo Sukapha
(C) Ajan Pir (D) Srimanta Sankardev
-

49. ধুবুৰী স্থিত গুৰুদ্বাৰতো কোনে স্থাপন কৰিছিল ?

- (A) গুৰু নানক (B) গুৰু টেগবাহাদুৰ
(C) গুৰু অংগদ (D) গুৰু অৰ্জন

49. কে ধুবড়ীতে গুৰুদ্বাৰ প্ৰতিষ্ঠা কৰেছিলেন ?

- (A) গুৰু নানক (B) গুৰু তেগ বাহাদুৰ
(C) গুৰু অংগদ (D) গুৰু অৰ্জন

49. ধুবুৰিআব গুৰুদ্বাৰাখৌ সৌৰ গায়সনা মোন ?

- (A) গুৰু নানক (B) গুৰু তেগ বাহাদুৰ
(C) গুৰু অংগদ (D) গুৰু অৰ্জন

49. किसने धुबरी में गुरुद्वारा की स्थापना की थी ?

- (A) गुरु नानक (B) गुरु तेग बहादुर
(C) गुरु अंगद (D) गुरु अर्जन

49. Who established the Gurudwara at Dhubri ?

- (A) Guru Nanak (B) Guru Tegh Bahadur
(C) Guru Angad (D) Guru Arjan
-

50. অসমীয়া বোলচবিত অভিনয় কৰা প্ৰথম গৰাকী অভিনেত্ৰী কোন আছিল ?

- (A) আইদেও সন্দিকৈ (B) ইভা আচাও
(C) অবন্তী সন্দিকৈ (D) বিদ্যা বাও

50. অসমীয়া চলচ্চিত্ৰৰ প্ৰথম অভিনেত্ৰী কে ছিলেন ?

- (A) আইদেউ সন্দিকৈ (B) ইভা আচাউ
(C) অবন্তী সন্দিকৈ (D) বিদ্যা বাও

50. आसामीया सावथुननि गिबिसिन आइजो फावखुंग्रि नि मुंआ मा ?

- (A) आइदेउ हांडिक (B) इभा आशाउ
(C) अबन्ति हांडिक (D) बिदया राव

50. असमिया फिल्म में पहली महिला अभिनेत्री कौन थी ?

- (A) आइदेउ हैंदिक (B) ईभा आशाओ
(C) अवन्ती हैंदिक (D) विद्या राव

50. Who was the first female actress of Assamese Cinema ?

- (A) Aidew Handique (B) Ebha Ashaw
(C) Abanti Handique (D) Vidya Rao
-



51. A ব একমাত্র ভগ্নী হৈছে Q, A হ'ল B ব একমাত্র পুত্র। আনহাতে B ব পত্নী হৈছে P ব জীয়াবী আৰু P ব একমাত্র পুত্র হৈছে R। R ব্যক্তিজন Q ব সৈতে কেনে ধৰণে সম্পৰ্কিত ?
- (A) শসুৰ (B) মামা
(C) পুত্র (D) পিতৃ
51. Q হল A এর একমাত্র বোন, যে B এর একমাত্র পুত্র। B এর স্ত্রী হল P এর কন্যা, যার একমাত্র পুত্র R। R কীভাবে Q এর সঙ্গে সম্পৰ্কিত ?
- (A) শ্বশুৰ (B) মামা
(C) পুত্র (D) পিতা
51. Q আ A নি সাसे ल' बिनानाव जाय जाहैबाय B नि सासेल' फिसाज्ला। B नि बिसि आ P नि फिसाजो जायहा सासेल' फिसाला R। माबोरै R हा Q जों सोमोन्दो दंलायो ?
- (A) बिहाव (B) बिफ्यै
(C) फिसाला (D) फिफा
51. Q, A की इकलौती बहन है, जो B का इकलौता बेटा है। B की पत्नी P की बेटी है, जिसका एकमात्र बेटा है R। R, Q का क्या लगता है ?
- (A) समु (B) चाचा (अंकल)
(C) बेटा (D) पिता
51. Q is the only sister of A, who is the only son of B. B's wife is the daughter of P, who has only one son R. How is R related to Q ?
- (A) Father-in-law (B) Uncle
(C) Son (D) Father

52. কেইজনমান ল'ৰাৰ এটা শাৰীত শ্ৰীনাথ বাওঁফালৰ পৰা 7-ম স্থানত আৰু প্ৰবীণ সোঁফালৰ পৰা 12-তম স্থানত আছে। যদি তেওঁলোক দুয়োজনে পৰস্পৰে স্থান সলনি কৰে, তেন্তে শ্ৰীনাথ বাওঁফালৰ পৰা 22-তম স্থানত থাকে। শাৰীটোত মুঠতে কিমানজন ল'ৰা আছে ?
- (A) 19 (B) 31
(C) 33 (D) 34

SPACE FOR ROUGH WORK



52. সারিবদ্ধ ছেলেদের মধ্যে শ্রীনাথ বামদিক থেকে 7 তম স্থানে এবং প্রবীণ ডানদিক থেকে 12 তম স্থানে আছে। যদি তারা তাদের স্থান পরিবর্তন করে তবে শ্রীনাথ বাম দিক থেকে 22 তম স্থানে আসে। সারিটিতে মোট কতজন ছেলে আছে ?
- (A) 19 (B) 31
(C) 33 (D) 34
52. हौबासा फोरनि मोनसे सारिआव, श्रीनाथ आ आगसिनिफ्राय 7 थि आव दंमोन आरो प्रबिन आ आगदानिफ्राय 12 थि आव दंमोत । जुदि बेसोरो गावनि थावनि सोलायलायोब्ला, श्रीनाथ आ आगसिनिफ्राय 22 थि आव थाहैयो । बे सारिआव साबेसे होवासाफोर दं ?
- (A) 19 (B) 31
(C) 33 (D) 34
52. लड़कों की एक पंक्ति में, श्रीनाथ बायें से सातवें और प्रवीण दायें से 12वें स्थान पर है । यदि वे अपना स्थान आपस में बदल लेते हैं, तो श्रीनाथ बायें से 22वें स्थान पर आ जाते हैं । पंक्ति में कितने लड़के हैं ?
- (A) 19 (B) 31
(C) 33 (D) 34
52. In a row of boys, Srinath is 7th from left and Prabin is 12th from right. If they interchange their positions, Srinath becomes 22nd from the left. How many boys are there in the row ?
- (A) 19 (B) 31
(C) 33 (D) 34

-
53. যদি $72 \blacksquare 96 = 6927$, $58 \blacksquare 87 = 7885$ হয়, তেন্তে $79 \blacksquare 86 = ?$
- (A) 7689 (B) 8976
(C) 6897 (D) 6978
53. যদি $72 \blacksquare 96 = 6927$, $58 \blacksquare 87 = 7885$, তবে $79 \blacksquare 86 = ?$
- (A) 7689 (B) 8976
(C) 6897 (D) 6978
53. जुदि $72 \blacksquare 96 = 6927$, $58 \blacksquare 87 = 7885$, अब्ला $79 \blacksquare 86 = ?$
- (A) 7689 (B) 8976
(C) 6897 (D) 6978

SPACE FOR ROUGH WORK



53. यदि 72 ■ 96 = 6927, 58 ■ 87 = 7885, तो 79 ■ 86 = ?

- (A) 7689 (B) 8976
(C) 6897 (D) 6978

53. If 72 ■ 96 = 6927, 58 ■ 87 = 7885, then 79 ■ 86 = ?

- (A) 7689 (B) 8976
(C) 6897 (D) 6978

54. यदि '÷' से 'योग', '+' से 'वियोग', '-' से 'पूबण' आरु 'x' से 'हबण' प्रक्रिया वुजाय, तेन्ते

18 ÷ 12 × 4 - 5 ब मान हैछे :

- (A) 25 (B) 35
(C) 40 (D) 33

54. यदि '÷' माने 'योग' हय, '+' माने 'वियोग' हय, '-' माने 'गुणन' हय एबं 'x' माने 'भाग' हय तबे

18 ÷ 12 × 4 - 5 एर मान हबे :

- (A) 25 (B) 35
(C) 40 (D) 33

54. जुदि '÷' आ 'दाजाबगासै', '+' आ 'दानखगासै', '-' आ 'सानजाबगासै' आरु 'x' आ 'राननाय' फोरमायो

18 ÷ 12 × 4 - 5 नि माना मा ?

- (A) 25 (B) 35
(C) 40 (D) 33

54. यदि '÷' का अर्थ है 'जोड़', '+' का अर्थ घटाना, '-' का अर्थ 'गुणा' और 'x' का अर्थ 'भाग' है, तो

18 ÷ 12 × 4 - 5 का मान है

- (A) 25 (B) 35
(C) 40 (D) 33

54. If '÷' means 'addition', '+' means 'subtraction', '-' means 'multiplication' and 'x' means 'division', then the value of 18 ÷ 12 × 4 - 5 is

- (A) 25 (B) 35
(C) 40 (D) 33

SPACE FOR ROUGH WORK



55. 7, 11, 19, 31, _____, 67 ক্রমটোৰ বিস্তৃত স্থানৰ সংখ্যাটো হৈছে :
- (A) 43 (B) 47
(C) 51 (D) 45
55. পর্যায়ক্রমে অনুপস্থিত সংখ্যাটি হল : 7, 11, 19, 31, _____, 67
- (A) 43 (B) 47
(C) 51 (D) 45
55. 7, 11, 19, 31, _____, 67 ফাৰি আব গোমানায় বিদাৰনি মান নাগিৰ ।
- (A) 43 (B) 47
(C) 51 (D) 45
55. अनुक्रम 7, 11, 19, 31, _____, 67 में लुप्त पद है
- (A) 43 (B) 47
(C) 51 (D) 45
55. The missing term in the sequence 7, 11, 19, 31, _____, 67 is
- (A) 43 (B) 47
(C) 51 (D) 45

56. কোনো এক সাক্ষাৎকাৰ গ্ৰহণৰ বাবে চেয়াৰমেন গৰাকী 12:30 বজাৰ 10 মিনিট আগেয়ে প্ৰেক্ষাগৃহত প্ৰবেশ কৰে । চেয়াৰমেন গৰাকী এম.ডি.তকৈ 20 মিনিট আগেয়ে প্ৰেক্ষাগৃহত প্ৰবেশ কৰিছিল । এম.ডি. গৰাকী সাক্ষাৎকাৰৰ নিৰ্দ্ধাৰিত সময়তকৈ 30 মিনিট পলমকৈ আহিছিল । সাক্ষাৎকাৰৰ নিৰ্দ্ধাৰিত সময়টো আছিল :
- (A) 12:50 বজা (B) 12:40 বজা
(C) 12:00 বজা (D) 12:10 বজা
56. চেয়াৰম্যান সাক্ষাৎকাৰ নেওয়ার জন্য সমাবেশ ঘরে 12:30 ঘটিকাৰ 10 মিনিট পূৰ্বে প্ৰবেশ কৰেন । চেয়াৰম্যান এম.ডি. ৰ থেকে 20 মিনিট আগে পৌঁছেছেন । এম.ডি. সাক্ষাৎকাৰ নেওয়ার নিৰ্দিষ্ট কৰা সময় থেকে 30 মিনিট দেৱীতে পৌঁছেছেন । সাক্ষাৎকাৰ নেওয়ার সময় ছিল :
- (A) 12:50 ঘটিকা (B) 12:40 ঘটিকা
(C) 12:00 ঘটিকা (D) 12:10 ঘটিকা

SPACE FOR ROUGH WORK



56. इंटरव्यू खुंनो मासिगिरि आ एसेम्बि हल आव 12:30 जानो 10 मिनट सिगां हाबो. एम.डि. नि फ्राय 20 मिनट सिगां मासिगिरि आ हाबो । एम.डि. आ इंटरव्यू नि थाखाय थि खालामनाय समनिफ्राय 30 मिनट गोबाव खालामोमोन । इंटरव्यू नि थाखाय थिखालामनाय समआ मा मोन ?
- (A) 12:50 रिडा (B) 12:40 रिडा
(C) 12:00 रिडा (D) 12:10 रिडा
56. अध्यक्ष, साक्षात्कार करने के लिए 12:30 बजे से 10 मिनट पहले हॉल में प्रवेश करता है । चेयरमैन M.D. से 20 मिनट पहले अंदर आया था । साक्षात्कार के समय के अनुसार M.D. 30 मिनट देरी से पहुँचे । साक्षात्कार का निर्धारित समय था :
- (A) 12:50 बजे (B) 12:40 बजे
(C) 12:00 बजे (D) 12:10 बजे
56. The Chairman enters the Assembly Hall 10 min before 12:30 hours to conduct the interview. The Chairman was 20 min earlier than the MD. The MD was 30 min late as per time fixed for the interview. The time fixed for the interview was :
- (A) 12:50 hours (B) 12:40 hours
(C) 12:00 hours (D) 12:10 hours

-
57. 2, 6, 18, 54, अनुक्रमटोब अष्टम राशिटो ह्येछे
- (A) 4370 (B) 4374
(C) 7443 (D) 7434
57. 2, 6, 18, 54, क्रमटिते अष्टम राशिटि
- (A) 4370 (B) 4374
(C) 7443 (D) 7434
57. 2, 6, 18, 54, फारिआव थानाय 8 थि बिदाबआ जाबाय
- (A) 4370 (B) 4374
(C) 7443 (D) 7434

SPACE FOR ROUGH WORK



57. अनुक्रम 2, 6, 18, 54, का आठवां पद है :
- (A) 4370 (B) 4374
(C) 7443 (D) 7434
57. The 8th term of the sequence 2, 6, 18, 54, is
- (A) 4370 (B) 4374
(C) 7443 (D) 7434
-
58. কোনো দুটা সংখ্যা, কোনো তৃতীয় সংখ্যাতকৈ ক্রমে 20% আৰু 50% ডাঙৰ। সংখ্যা দুটাৰ অনুপাত হৈছে :
- (A) 2 : 5 (B) 3 : 5
(C) 4 : 5 (D) 7 : 5
58. কোনো দুইটি সংখ্যা তৃতীয় সংখ্যা থেকে যথাক্রমে 20% এবং 50% বেশী। সংখ্যা দুইটির অনুপাত :
- (A) 2 : 5 (B) 3 : 5
(C) 4 : 5 (D) 7 : 5
58. मोननै अनजिमा या फारियै थामथि अनजिमाफ्राय 20% आरो 50% बारा। बे अनजिमा मोननैनि रुजुथाइ आ बेसे ?
- (A) 2 : 5 (B) 3 : 5
(C) 4 : 5 (D) 7 : 5
58. दो संख्याएँ एक तीसरी संख्या से क्रमशः 20% और 50% अधिक हैं, दोनों संख्याओं का अनुपात है -
- (A) 2 : 5 (B) 3 : 5
(C) 4 : 5 (D) 7 : 5
58. Two numbers are respectively 20% and 50% more than a third number. The ratio of the two numbers is
- (A) 2 : 5 (B) 3 : 5
(C) 4 : 5 (D) 7 : 5

SPACE FOR ROUGH WORK



59. ₹ 4,000 মূলধনৰ শতকৰা বছৰি 12% সরল সুতত 18 মাহৰ সুত হৈছে :
- (A) ₹ 216 (B) ₹ 720
(C) ₹ 360 (D) ₹ 960
59. ₹ 4,000 টাকার উপর 12% বাৎসরিক হারে 18 মাসে অর্জিত সরল সুদ :
- (A) ₹ 216 (B) ₹ 720
(C) ₹ 360 (D) ₹ 960
59. জৈখোন্দৌ বোসোরারি 12 रां हारै ₹ 4,000.00 नि दान 18 आव गोरलै सुद बेसे जाहैगोन ?
- (A) ₹ 216 (B) ₹ 720
(C) ₹ 360 (D) ₹ 960
59. ₹ 4,000 पर 18 महीने में 12% प्रति वर्ष की दर से अर्जित साधारण ब्याज है :
- (A) ₹ 216 (B) ₹ 720
(C) ₹ 360 (D) ₹ 960
59. The simple interest earned by ₹ 4,000 in 18 months at 12% per annum is
- (A) ₹ 216 (B) ₹ 720
(C) ₹ 360 (D) ₹ 960

-
60. কোনো এক সংখ্যাক 893 বে হৰণ কৰিলে ভাগশেষ 193 পোৱা যায়। একেটা সংখ্যাক 47 বে হৰণ কৰিলে পোৱা ভাগশেষ হৈছে :
- (A) 3 (B) 25
(C) 5 (D) 33
60. কোনো একটি সংখ্যাকে 893 द्वारा भाग करले अवशिष्ट 193 থাকे। সেই संख्याटिके 47 द्वारा भाग करले अवशिष्ट থাকेबे :
- (A) 3 (B) 25
(C) 5 (D) 33
60. मोनसे अनजिमाख्रौ 893 जौ रानब्ला आद्रा थालाडो 193। वे एखे अनजिमाख्रौ 47 जौ रानोब्ला आद्रा थालानाया बेसे जागोन ?
- (A) 3 (B) 25
(C) 5 (D) 33

SPACE FOR ROUGH WORK



60. जब एक संख्या को 893 से विभाजित किया जाता है तो शेष 193 प्राप्त होता है। उसी संख्या को 47 से विभाजित करने पर शेष होगा :
- (A) 3 (B) 25
(C) 5 (D) 33
60. When a number is divided by 893 the remainder is 193. If the same number is divided by 47, the remainder will be :
- (A) 3 (B) 25
(C) 5 (D) 33
-
61. 120 জন ছাত্র এটা ছাত্রাবাসত 45 দিনৰ খাদ্য মজুত আছে। যদি ছাত্রাবাসত নতুনকৈ 30 জন ছাত্রই যোগদান কৰে, তেন্তে মজুত খাদ্যৰে ছাত্রাবাসটো কিমান দিন চলিব পাৰিব ?
- (A) 40 দিন (B) 38 দিন
(C) 36 দিন (D) 32 দিন
61. একটি ছাত্রাবাসে 120 জন ছাত্র আছে এবং 45 দিন এর খাবার সরবরাহ করা হয়েছে। যদি আরও 30 জন ছাত্র ছাত্রাবাসে যোগদান করে তবে ছাত্রাবাসে মজুত থাকা খাবারে কতদিন চলবে ?
- (A) 40 দিন (B) 38 দিন
(C) 36 দিন (D) 32 দিন
61. गंसे हस्तेल आव सा 120 फरायसा दं आरो आदार आ सान 45 नि थाखाय दं। जुदि बे हस्तेलाव आरोबाव सा 30 फरायसाफ्रा थाफैयो, अब्ला थानाय आदारजो बे हस्तेआ सानबेसे सोलिनो हागोन ?
- (A) सान 40 (B) सान 38
(C) सान 36 (D) सान 32
61. एक छात्रावास में 120 छात्र हैं और भोजन की आपूर्ति 45 दिनों के लिए है। अगर 30 और छात्र छात्रावास में शामिल हो गए, तो मौजूदा भोजन से छात्रावास कितने दिन चलेगा ?
- (A) 40 दिन (B) 38 दिन
(C) 36 दिन (D) 32 दिन
61. A hostel has 120 students and food supplies are for 45 days. If 30 more students joined the hostel, then how many days the hostel will run with the existing food ?
- (A) 40 days (B) 38 days
(C) 36 days (D) 32 days

SPACE FOR ROUGH WORK



62. 20 মি. দীঘল এডাল জখলা এখন উলম্ব দেৱালত আঁউজাই থোৱা আছে। জখলাডালে মাটিৰ সৈতে 30° কোণ কৰি আছে। জখলাডালে দেৱালখনত স্পৰ্শ কৰা বিন্দুটোৰ উচ্চতা হৈছে :
- (A) 10 মি. (B) 17.32 মি.
(C) 8.16 মি. (D) 13 মি.
62. 20 মিটাৰ দৈৰ্ঘ্যৰ একটি মই (ladder) উলম্ব (vertical) অবস্থায় থাকা একটি দেওয়ালে ঝুঁকে আছে। মইটির ভূমিৰ সঙ্গৈ কৰা কোণৰ মাপ 30° । মইটির দেওয়ালকে স্পৰ্শ কৰা বিন্দুটিৰ উচ্চতা :
- (A) 10 মিঃ (B) 17.32 মিঃ
(C) 8.16 মিঃ (D) 13 মিঃ
62. গংসে গোধী ইনজুৰ আৰু 20 মি. লাউথায়নি জাংলায়া সোনাৰনান দং। বিয়ো হাজী 30° খনা খালামদী। জাংলায়া ইনজুৰ আৰু ফোনাণায় বিন্দোনি জৌয়াইআ বেসে ?
- (A) 10 মি. (B) 17.32 মি.
(C) 8.16 মি. (D) 13 মি.
62. एक 20 मीटर लंबी सीढ़ी एक ऊर्ध्वाधर दीवार पर झुकी हुई है। यह जमीन के साथ 30° का कोण बनाती है। सीढ़ी के दीवार को छूने वाले बिंदु की ऊँचाई है
- (A) 10 मी. (B) 17.32 मी.
(C) 8.16 मी. (D) 13 मी.
62. A 20 m long ladder is leaning on a vertical wall. It makes an angle of 30° with the ground. The height of the point the ladder touches wall is
- (A) 10 m (B) 17.32 m
(C) 8.16 m (D) 13 m
-
63. এটা চকা 1000 পাক ঘূৰোঁতে অতিক্রম কৰা দূৰত্ব হৈছে 22 কি.মি.। চকাটোৰ ব্যাসার্ধ হ'ল :
- (A) 4.5 মি. (B) 2.1 মি.
(C) 2.8 মি. (D) 3.5 মি.
63. একটি চাকা 1000 আবর্তনে 22 কিঃমিঃ দূৰত্ব অতিক্রম করে। চাকাটির ব্যাসার্ধ :
- (A) 4.5 মিঃ (B) 2.1 মিঃ
(C) 2.8 মিঃ (D) 3.5 মিঃ

SPACE FOR ROUGH WORK



63. मोनसे साखाया खेब 1000 गिदिनाय आव 22 कि.मि. जानथाइ दावबायो । बे साखानि स'खाव हांखो आ जाबाय
- (A) 4.5 मि. (B) 2.1 मि.
(C) 2.8 मि. (D) 3.5 मि.
63. एक पहिया 1000 चक्कर में 22 कि.मी. की दूरी तय कर सकता है । पहिये की त्रिज्या (Radius) है
- (A) 4.5 मी. (B) 2.1 मी.
(C) 2.8 मी. (D) 3.5 मी.
63. A wheel can cover a distance of 22 km in 1000 rounds. The radius of the wheel is
- (A) 4.5 m (B) 2.1 m
(C) 2.8 m (D) 3.5 m

-
64. 10 गबाकी शिक्षक थका এখন বিদ্যালয়ত এজন শিক্ষকে অবসৰ গ্ৰহণ কৰে আৰু লগে লগে 25 বছৰ বয়সৰ আন এজন শিক্ষকে বিদ্যালয়ত যোগদান কৰে । ফলস্বৰূপে শিক্ষক সকল গড় বয়স 3 হ্রাস পায় । অবসৰ গ্ৰহণ কৰা শিক্ষক জনৰ বয়স হৈছে :
- (A) 55 বছৰ (B) 65 বছৰ
(C) 58 বছৰ (D) 60 বছৰ
64. একটি স্কুলে 10 জন শিক্ষক আছেন । একজন অবসৰ গ্ৰহণ কৰেছেন এবং অবিলম্বে 25 বৎসৰ বয়সেৰ একজন নতুন শিক্ষক যোগদান কৰেছেন । ফলস্বৰূপে শিক্ষকদেৰ গড় বয়স 3 বৎসৰ হ্রাস পায় । অবসৰ প্ৰাপ্ত শিক্ষকেৰ বয়স হল :
- (A) 55 বৎসৰ (B) 65 বৎসৰ
(C) 58 বৎসৰ (D) 60 বৎসৰ
64. सा जि फोरोंगिरि गोनां गसे फरायसालि आव, सासे आजिरा लायो आरो लोगो लोगो 25 बोसोर बैसोनि गोदान फोरोंगिरि थिसनजायो । फिथाय बाइदिथै, फोरोंगिरि फोरनि बैसोनि गड़मान आ 3 जों खमायलाडो । आजिरा लानाय फोरोंगिरिनि बैसोआ बेसे ?
- (A) 55 बासोर (B) 65 बासोर
(C) 58 बासोर (D) 60 बासोर

SPACE FOR ROUGH WORK



64. 10 शिक्षक वाले स्कूल में, एक शिक्षक की सेवानिवृत्ति पर तुरंत 25 वर्ष की आयु का एक नया शिक्षक नियुक्त हो गया। परिणामस्वरूप, शिक्षक की औसत आयु 3 कम हो गई। सेवानिवृत्त शिक्षक की आयु है :
- (A) 55 वर्ष (B) 65 वर्ष
(C) 58 वर्ष (D) 60 वर्ष
64. In a school with 10 teachers, one retires and immediately a new teacher of age 25 years joins. As a result, the average age of the teacher reduces by 3. The age of the retired teacher is
- (A) 55 years (B) 65 years
(C) 58 years (D) 60 years
-
65. 720 গৰাকী বিদ্যার্থী থকা এখন বিদ্যালয়ত ল'ৰা আৰু ছোৱালীৰ সংখ্যাৰ অনুপাত 7 : 5। অনুপাতটো 1 : 1 হ'বলৈ অতিৰিক্ত কিমান গৰাকী ছোৱালীৰ নামভৰ্তি হ'ব লাগিব ?
- (A) 60 (B) 120
(C) 180 (D) 240
65. 720 জন বিদ্যার্থী থাকা একটি স্কুলে ছেলে এবং মেয়ের অনুপাত হল 7 : 5। ছেলে ও মেয়ের অনুপাত 1 : 1 হতে হলে আরও কতজন মেয়ে ভর্তি হতে হবে ?
- (A) 60 (B) 120
(C) 180 (D) 240
65. সা 720 ফরায়সাগোনাং গংসে ফরায়সালিআব হোবাসা আরো হিন্জাবসানি অনজিমানি रुजुथाइ आ जाबाय 7 : 5। रुजुथाइआ 1 : 1 जानोब्ला, साबेसे हिन्जাবसाया मुं थिसनजानांगोन ?
- (A) 60 (B) 120
(C) 180 (D) 240
65. 720 छात्रों के एक स्कूल में लड़कों और लड़कियों की संख्या का अनुपात 7 : 5 है। अनुपात 1 : 1 बनाने के लिए और कितनी लड़कियों को प्रवेश दिया जाना चाहिए ?
- (A) 60 (B) 120
(C) 180 (D) 240
65. The ratio of the number of boys and girls in a school of 720 students is 7 : 5. How many more girls should be admitted to make the ratio 1 : 1 ?
- (A) 60 (B) 120
(C) 180 (D) 240

SPACE FOR ROUGH WORK



66. শ্যামে 1 টকা আৰু 50 পইচাৰ কিছুমান মুদ্রা 2 : 3 অনুপাতত মুঠ ₹ 35 সাঁচি থৈছিল। ইয়াত 50 পইচাৰ মুদ্রাৰ সংখ্যা হৈছে :
- (A) 20 (B) 25
(C) 30 (D) 35
66. শ্যাম 1 টকা এবং 50 পয়সার মুদ্রা 2 : 3 অনুপাতে 35 টকা জমা করেছে। 50 পয়সায় মুদ্রার সংখ্যা হল :
- (A) 20 (B) 25
(C) 30 (D) 35
66. थाइसे आरु 50 फैसामुद्रा 2 : 3 रुजु थाइजुँ श्याम आ ₹ 35 रां दोनथुमो। 50 फैसामुद्रानि अनजिमाया बेसे ?
- (A) 20 (B) 25
(C) 30 (D) 35
66. श्याम ने 1 रुपये के सिक्कों और 50 पैसे के सिक्कों के 2 : 3 के अनुपात में ₹ 35 संग्रहित किया। 50 पैसे के सिक्कों की संख्या है :
- (A) 20 (B) 25
(C) 30 (D) 35
66. Shyam stored ₹ 35 in the form of 1 rupee coin and 50 paise coins in the ratio 2 : 3. The number of 50 paise coins are :
- (A) 20 (B) 25
(C) 30 (D) 35

67. প্রদত্ত পাইচিট্রই এটা কোম্পানীৰ কোনো এক বৰ্ষৰ ব্যয়ৰ পৰিমাণ বিভাজিত ৰূপত দৰ্শাইছে। চিত্রটোত Tax খণ্ডই সৃষ্টি কৰা কোণৰ মান :

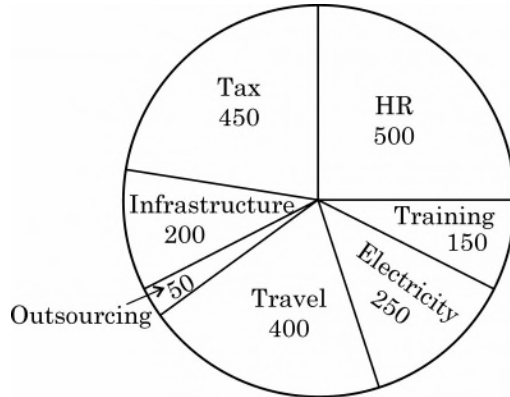


Fig. : Expenditure (in Lakhs)

- (A) 90° (B) 45°
(C) 72° (D) 81°

SPACE FOR ROUGH WORK

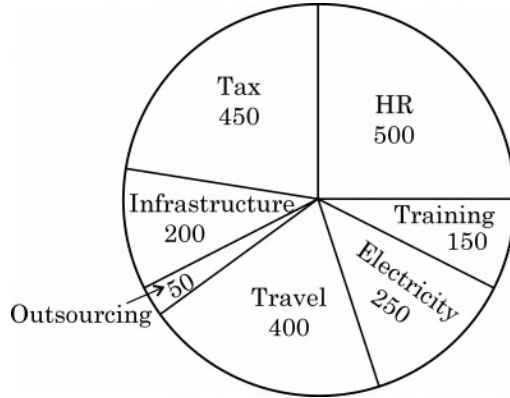


67. নিম্নে উল্লেখিত বৃত্ত চিত্রটি একটি প্রতিষ্ঠানের বাৎসরিক ব্যয়ের তথ্য প্রদর্শন করে। করের বৃত্তাংশ জনিত অবস্থান করা কোণের মাপ :



চিত্র : খরচ (লক্ষ)

- (A) 90° (B) 45°
(C) 72° (D) 81°
67. पाइ सावगारि जॉ मोनसे कम्पानिनि बोसोरारि खरसाखौ दिन्थिनाय जाबाय । खाजना (Tax) खोन्दोआ बानाय नाय खनानि मान'आ बेसे ?



সাব : খরসা (লাখ আব)

- (A) 90° (B) 45°
(C) 72° (D) 81°

SPACE FOR ROUGH WORK



67. पाई चार्ट किसी दिए गए वर्ष के लिए किसी कंपनी के व्यय का विवरण दिखाता है। कर (Tax) खंड द्वारा अंतरित कोण है :

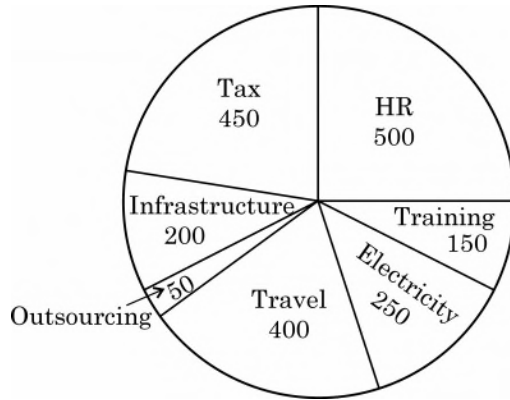


Fig. : व्यय (लाख में)

- (A) 90° (B) 45°
 (C) 72° (D) 81°
67. The pie chart shows the expenditure breakup of a company for a given year. The angle subtended by the Tax segment is

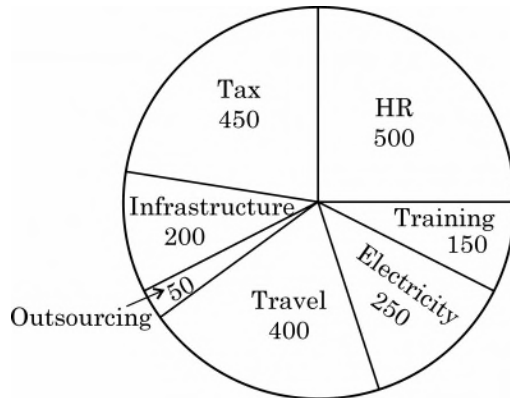


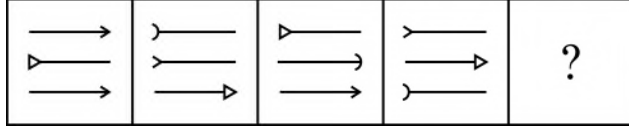
Fig. : Expenditure (in Lakhs)

- (A) 90° (B) 45°
 (C) 72° (D) 81°

SPACE FOR ROUGH WORK

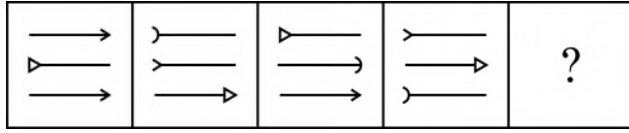


68. চিত্রৰ শৃংখলাটো আগবঢ়াই নিবৰ বাবে উপযুক্ত চিত্ৰটো নিৰ্বাচন কৰা :



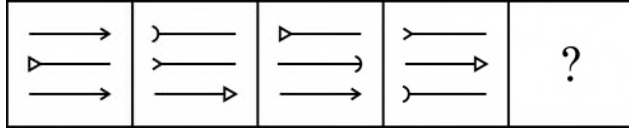
- (A) (B)
- (C) (D)

68. উপযুক্ত চিত্ৰ নিৰ্বাচন কৰে চিত্ৰ ক্ৰমটি পূৰ্ণ কৰো :



- (A) (B)
- (C) (D)

68. সাবগাৰি ফাৰিখৌ লান্ধ্ৰিয়ৈ দাবগাহোনো থি সাবগাৰি খৌ সাযখ' ?

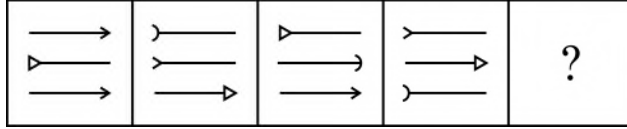


- (A) (B)
- (C) (D)

SPACE FOR ROUGH WORK

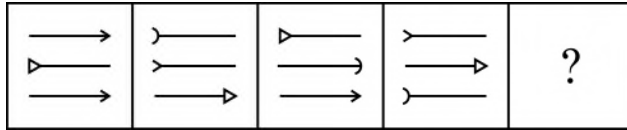


68. आकृति श्रृंखला जारी रखने के लिए उपयुक्त आकृति का चयन करें :



- (A) (B) (C) (D)

68. Select the appropriate figure to continue the figure series.



- (A) (B) (C) (D)

69. प्रश्नबोधक चिह्न (?) टोत कि संख्या बहिव लागिब ?

| | | | | |
|----|----|----|----|---|
| | | | 14 | |
| | 22 | | | |
| | | | 34 | |
| 41 | | | | |
| | | 53 | | ? |

- (A) 14 (B) 55
(C) 15 (D) 45

SPACE FOR ROUGH WORK



69. প্রশ্নবোধক চিহ্নের (?) জায়গায় কোন সংখ্যাটি বসবে ?

| | | | | |
|----|----|----|----|---|
| | | | 14 | |
| | 22 | | | |
| | | | 34 | |
| 41 | | | | |
| | | 53 | | ? |

- (A) 14 (B) 55
(C) 15 (D) 45

69. सोलुं सिनखौ बबे अनजिमाजो सोलायनो हागोन ?

| | | | | |
|----|----|----|----|---|
| | | | 14 | |
| | 22 | | | |
| | | | 34 | |
| 41 | | | | |
| | | 53 | | ? |

- (A) 14 (B) 55
(C) 15 (D) 45

69. प्रश्नवाचक चिह्न (?) के स्थान पर कौन सी संख्या आनी चाहिए ?

| | | | | |
|----|----|----|----|---|
| | | | 14 | |
| | 22 | | | |
| | | | 34 | |
| 41 | | | | |
| | | 53 | | ? |

- (A) 14 (B) 55
(C) 15 (D) 45

SPACE FOR ROUGH WORK



69. What number should replace the question mark (?) ?

| | | | | |
|----|----|----|----|---|
| | | | 14 | |
| | 22 | | | |
| | | | 34 | |
| 41 | | | | |
| | | 53 | | ? |

- (A) 14 (B) 55
(C) 15 (D) 45

70. BROTHER, HUSBAND, MEN

এই শ্রেণী সমূহৰ মাজৰ সম্পর্ক সমূহক যথোচিতভাৱে প্রতিনিধিত্ব কৰা চিত্ৰটো চিনাক্ত কৰা ।

- (A)  (B) 
(C)  (D) 

70. নিম্নে দেওয়া শ্রেণীগুলোর মধ্যে থাকা সম্পর্কটিকে কোন চিত্রটি সবথেকে ভালভাবে প্রতিনিধিত্ব করে তা চিহ্নিত কৰো :

ভাই, স্বামী, মানুষ

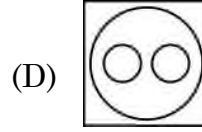
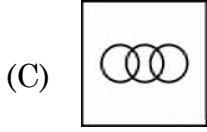
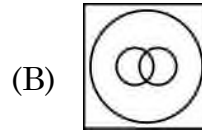
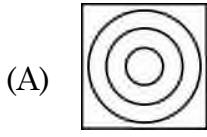
- (A)  (B) 
(C)  (D) 

SPACE FOR ROUGH WORK



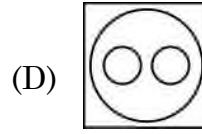
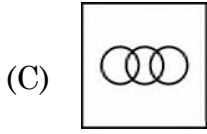
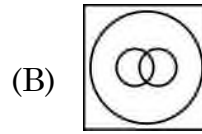
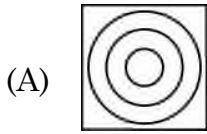
70. गाहायाव होनाय थाखोफोरनि गेजेराव थानाय सोमोन्दोखौ बइनिखुइ साबसिनै फोरमायग्रा सावगारि बासि ?

फंबाय, फिसाय, हौवा मानसि



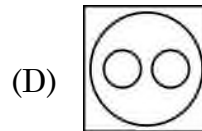
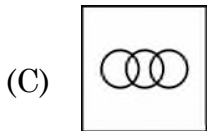
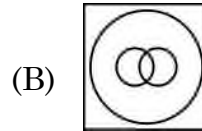
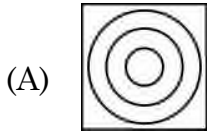
70. उस आरेख की पहचान करें जो दिए गए वर्गों के बीच संबंध का सबसे अच्छा प्रतिनिधित्व करता है :

भाई, पति, पुरुष



70. Identify the diagram that best represents the relationship among the given classes :

BROTHER, HUSBAND, MEN



SPACE FOR ROUGH WORK



Q. 71-80 : Read the passage carefully and answer the questions given below :

At last the bomb was made. The site chosen for the test explosion was the desert region north of Alamogordo, two hundred miles from Los Alamos. The bomb was taken by road and placed on a gaunt tower, one hundred feet high and weighing thirty-two tons, erected on the top of a hill. The code name for it was Zero Hill. Zero hour was 5:30 a.m. on Monday, July 16, 1945.

Oppenheimer himself was at the control centre about nine miles from Zero Hill. There were a thousand spectators including scientists, government officials and a strong security force. All not on duty were told to lie down flat, face and eyes directed towards the ground and with the head away from zero.

At forty-five seconds to zero hour Dr. Joseph L. Mckibban of California University set in motion a weird master robot which set other robots in motion. More than five hundred miles of wiring were used to start the bomb. Electronic impulses were set in motion and relayed messages; electrons moved into position. Observers stood with coloured film over their eyes and heads averted.

Overhead two B-29 super fortresses hovered, equipped with recording instruments to test reactions in the atmosphere. Ten seconds before zero hour a green flare warned the spectators to keep down. Then came the blinding flash.

The whole area was suddenly brighter than the brightest day light, and the bomb was a ball of fire. Even at nine miles, the heat was scorching. Then came the tremendous roar and the heavy pressure wave, which knocked down two men outside the control centre. And then came the cloud – the mushroom cloud, all the colours of the rainbow, ironically beautiful surging upto over 40,000 feet, over 10,000 feet higher than Everest. The great steel tower had gone. Lead lined Sherman tanks took scientists towards the huge sloping crater where it had stood, to see the effects of radiation on the surface of the earth.



71. Zero Hill was located in
- (A) Desert region of Almogordo
 - (B) Desert region of Los Alamos
 - (C) Desert region north of Almogordo
 - (D) Desert region south of Almogordo
-

72. Hover means
- (A) To remain in the air at one place
 - (B) To move to and fro
 - (C) To circle around
 - (D) To move up and down
-

73. The bomb exploded
- (A) emitting heat, sound and heavy pressure wave
 - (B) emitting cloud and cloudburst
 - (C) without creating much physical disturbances
 - (D) creating a lot of physical and mental disturbances
-

74. Electronic impulses
- (A) were not effective
 - (B) relayed messages
 - (C) warned the spectators
 - (D) greeted the spectators
-

75. The spectators included
- (A) scientists, government officials and a strong security force.
 - (B) scientists, artists and a strong security force.
 - (C) scientists, a strong security force and footballers.
 - (D) scientists, technicians and a strong security force.
-



76. Who was at the control tower ?

- (A) Oppenheimer (B) McKibbon
(C) both Oppenheimer and McKibbon (D) Government officials
-

77. It is implied in the passage that the spectators were told to

- (A) lie down flat, face and eyes directed towards the ground and with the head away from zero.
(B) cover their eyes with coloured films and keep their head averted.
(C) lie down flat, face and eyes directed towards the ground and with the head towards zero.
(D) cover their heads with coloured films and eyes closed.
-

78. B-29 superfortresses and Sherman tanks are used to

- (A) check the effect of the bomb on the ground and air respectively.
(B) check effect of radiation on the ground and air respectively.
(C) check effect of radiation in the air and ground respectively.
(D) check the effect of the bomb on the great steel tower.
-

79. The beauty of the mushroom cloud is ironical because

- (A) It knocked down two men outside the control centre.
(B) Of the devastating nature of the bomb.
(C) The bomb destroyed the steel tower.
(D) Clouds are not devastating.
-

80. A synonym and antonym for the word Scorching would be

- (A) Searing, Soothing (B) Searing, Burning
(C) Soothing, Cooling (D) Soothing, Heating
-



81. $\sqrt{20 \times 45} + \sqrt{0.04} + \sqrt{0.64}$ ব মান হৈছে :
- (A) 26 (B) 31
(C) 36 (D) 41
81. $\sqrt{20 \times 45} + \sqrt{0.04} + \sqrt{0.64}$ এর মান
- (A) 26 (B) 31
(C) 36 (D) 41
81. $\sqrt{20 \times 45} + \sqrt{0.04} + \sqrt{0.64}$ নি মান আ জাৰায়
- (A) 26 (B) 31
(C) 36 (D) 41
81. $\sqrt{20 \times 45} + \sqrt{0.04} + \sqrt{0.64}$ का मान है :
- (A) 26 (B) 31
(C) 36 (D) 41
81. The value of $\sqrt{20 \times 45} + \sqrt{0.04} + \sqrt{0.64}$ is
- (A) 26 (B) 31
(C) 36 (D) 41
-

82. যদি $\frac{x}{y} = \frac{2}{3}$, তেত্তে $\frac{3x + 5y}{3x - 5y} + \frac{6x + 4y}{6x - y}$ ব মান
- (A) $\frac{1}{3}$ (B) $\frac{2}{3}$
(C) $-\frac{1}{3}$ (D) $-\frac{2}{3}$
82. যদি $\frac{x}{y} = \frac{2}{3}$ হয়, তবে $\frac{3x + 5y}{3x - 5y} + \frac{6x + 4y}{6x - y}$ এর সমান
- (A) $\frac{1}{3}$ (B) $\frac{2}{3}$
(C) $-\frac{1}{3}$ (D) $-\frac{2}{3}$
-

SPACE FOR ROUGH WORK



82. जुदि $\frac{x}{y} = \frac{2}{3}$ अब्ला $\frac{3x + 5y}{3x - 5y} + \frac{6x + 4y}{6x - y} = ?$

(A) $\frac{1}{3}$

(B) $\frac{2}{3}$

(C) $-\frac{1}{3}$

(D) $-\frac{2}{3}$

82. अगर $\frac{x}{y} = \frac{2}{3}$, तो $\frac{3x + 5y}{3x - 5y} + \frac{6x + 4y}{6x - y}$ बराबर है :

(A) $\frac{1}{3}$

(B) $\frac{2}{3}$

(C) $-\frac{1}{3}$

(D) $-\frac{2}{3}$

82. If $\frac{x}{y} = \frac{2}{3}$, then $\frac{3x + 5y}{3x - 5y} + \frac{6x + 4y}{6x - y}$ is equal to

(A) $\frac{1}{3}$

(B) $\frac{2}{3}$

(C) $-\frac{1}{3}$

(D) $-\frac{2}{3}$

83. यदि कोनो पाँचटा क्रमिक संख्याब योगफल 190 ह्य, तेन्ते आटाइतके सब संख्याटो ह'ब :

(A) 40

(B) 19

(C) 38

(D) 36

83. यदि कोनो पाँचटा क्रमिक संख्याब योगफल 190 ह्य, तबे तादेर मध्ये स्फुद्रतम संख्याटि हल :

(A) 40

(B) 19

(C) 38

(D) 36

83. मोनबा लान्थ्रि (लारि लारि) अनजिमानि दाजाबगासैया जुदि 190, बेसोरनि मादाव बइनिखुइ दुइसिन अनजिमाया मा ?

(A) 40

(B) 19

(C) 38

(D) 36

SPACE FOR ROUGH WORK



83. यदि पाँच क्रमागत संख्याओं का योग 190 है, तो उनमें से सबसे छोटी संख्या है

- (A) 40 (B) 19
(C) 38 (D) 36

83. If the sum of five consecutive numbers is 190, then the lowest number amongst them is

- (A) 40 (B) 19
(C) 38 (D) 36

84. এটা পূর্ণবর্গ সংখ্যা পাবলে 2450 বে পূরণ কৰিব লগীয়া ন্যূনতম সংখ্যাটো হৈছে :

- (A) 2 (B) 3
(C) 4 (D) 5

84. ন্যূনতম সংখ্যা যার দ্বারা 2450 কে গুণ করলে পূর্ণ বর্গে উপনীত হওয়া যায় সেটি হল :

- (A) 2 (B) 3
(C) 4 (D) 5

84. मा अनजिमाजो 2450 खो सानजाबोब्ला बेयो आबु बर्ग जाफुंगोन ?

- (A) 2 (B) 3
(C) 4 (D) 5

84. एक सबसे छोटी संख्या जिससे 2450 को एक पूर्ण वर्ग बनाने के लिये गुणा किया जाना चाहिये, वह है :

- (A) 2 (B) 3
(C) 4 (D) 5

84. The least number by which 2450 must be multiplied to make it a perfect square, is

- (A) 2 (B) 3
(C) 4 (D) 5

SPACE FOR ROUGH WORK



85. যদি চেনীৰ মূল্য 20% পৰিমাণে বৃদ্ধি হয়, তেনে চেনীৰ বাবে খৰছ একে ৰাখিবলৈ ইয়াৰ সেৱন কিমান শতাংশ হ্রাস কৰিব লাগিব ?
- (A) $13\frac{2}{3}\%$ (B) $14\frac{2}{3}\%$
(C) $15\frac{2}{3}\%$ (D) $16\frac{2}{3}\%$
85. যদি চিনিৰ মূল্য 20% বৰ্ধিত হয় তৰে পাৰিবাৰিক চিনিৰ ব্যৱহাৰ কি শতাংশে কমাতে হৰে যাতে খৰচ অপৰিবৰ্তিত থাকে ?
- (A) $13\frac{2}{3}\%$ (B) $14\frac{2}{3}\%$
(C) $15\frac{2}{3}\%$ (D) $16\frac{2}{3}\%$
85. जुदि चिनीनि बेसेना 20% जो बांलाडो गंसे नखर आ बेनि बाजेत ख्रौ एखे लाखिनो बेसे जौखोन्दोनि खरसाख्रौ ख्रमायनगंगोन ?
- (A) $13\frac{2}{3}\%$ (B) $14\frac{2}{3}\%$
(C) $15\frac{2}{3}\%$ (D) $16\frac{2}{3}\%$
85. यदि चीनी की कीमत में 20% की वृद्धि होती है, तो एक परिवार को चीनी के उपभोग में कितने प्रतिशत की कमी करनी चाहिए ताकि बजट समान रहे ?
- (A) $13\frac{2}{3}\%$ (B) $14\frac{2}{3}\%$
(C) $15\frac{2}{3}\%$ (D) $16\frac{2}{3}\%$
85. If the price of sugar increases by 20%, by what percentage should a household reduce its consumption of sugar so that the budget remains the same ?
- (A) $13\frac{2}{3}\%$ (B) $14\frac{2}{3}\%$
(C) $15\frac{2}{3}\%$ (D) $16\frac{2}{3}\%$

SPACE FOR ROUGH WORK



86. p, q, r এনে তিনিটা সংখ্যা যাতে p আৰু q ৰ ল.সা.গু. q , আৰু q আৰু r ৰ ল.সা.গু. r হয়। p, q আৰু r ৰ ল.সা.গু. হৈছে :
- (A) q (B) r
(C) qr (D) pqr
86. p, q, r একুপ তিনিটা সংখ্যা যাতে p ও q এর ল.সা.গু. q , এবং q ও r এর ল.সা.গু. r । p, q ও r এর ল.সা.গু. হবে :
- (A) q (B) r
(C) qr (D) pqr
86. p, q, r আ মোনথাম ঐৰ্বাদি অনজিমা জেৰাব p আরো q নি দু.আ.সা. যা জায়ো q, q আরো r নি দু.আ.সা. যা জায়ো r । p, q আরো r নি দু.আ.সা. মানআ মা ?
- (A) q (B) r
(C) qr (D) pqr
86. p, q, r तीन संख्याएँ इस प्रकार हैं कि p और q के लघुत्तम समापवर्त्य (LCM) q है और q तथा r का लघुत्तम समापवर्त्य r है। p, q और r का लघुत्तम समापवर्त्य होगा :
- (A) q (B) r
(C) qr (D) pqr
86. p, q, r are three numbers such that the LCM of p and q is q and the LCM of q and r is r . The LCM of p, q and r will be
- (A) q (B) r
(C) qr (D) pqr

87. 20 মি./চেকেণ্ড সুষম গতিবেগত চলি থকা 100 মিটাৰ দৈৰ্ঘ্যৰ এখন বেলগাড়ী 1 কি.মি. দৈৰ্ঘ্যৰ এখন দলং পাৰ হওঁতে বেলগাড়ীখনক প্ৰয়োজন কিমান সময় :
- (A) 45 চেকেণ্ড (B) 50 চেকেণ্ড
(C) 55 চেকেণ্ড (D) 60 চেকেণ্ড

SPACE FOR ROUGH WORK



87. 100 মিটার দৈর্ঘ্যের একটি রেলগাড়ী প্রতি সেকেন্ডে 20 মিটার অভিন্ন গতিবেগে 1 কিঃমিঃ দৈর্ঘ্যের সেতু অতিক্রম করল। রেলগাড়ীটির সেতু অতিক্রম করতে সময় লাগল :
- (A) 45 সেকেন্ড (B) 50 সেকেন্ড
(C) 55 সেকেন্ড (D) 60 সেকেন্ড
87. 100 মি লাডথাইনি গংসে ট্রেন আ 1 কি.মি. লাডথাইনি দালাংখৌ 20 মি./সে. মনরসে গোগুইথিজৌ বারো। দালাংখৌ বারনো বে ট্রেন আ বেসে সম লাযো ?
- (A) 45 সে (B) 50 সে
(C) 55 সে (D) 60 সে
87. एक 100 मीटर लंबी ट्रेन 20 मी./सेकंड की एकसमान गति से चलती हुई 1 कि.मी. लंबाई के पुल को पार करती है। पुल को पार करने के लिए ट्रेन द्वारा लिया गया समय है :
- (A) 45 सेकंड (B) 50 सेकंड
(C) 55 सेकंड (D) 60 सेकंड
87. A 100 metre long train moving in a uniform speed of 20 m/sec crosses a bridge of length 1 km. The time taken by the train to cross the bridge is
- (A) 45 seconds (B) 50 seconds
(C) 55 seconds (D) 60 seconds

88. 0.037 ব ভগ্নাংশ রূপটো হৈছে :

- (A) $\frac{37}{990}$ (B) $\frac{37}{999}$
(C) $\frac{37}{100}$ (D) $\frac{37}{1000}$

88. 0.037 কে ভগ্নাংশ রূপান্তরিত করলে :

- (A) $\frac{37}{990}$ (B) $\frac{37}{999}$
(C) $\frac{37}{100}$ (D) $\frac{37}{1000}$

SPACE FOR ROUGH WORK



88. $0.0\overline{37}$ नि बोखावखोन्दो महरआ जाबाय

(A) $\frac{37}{990}$

(B) $\frac{37}{999}$

(C) $\frac{37}{100}$

(D) $\frac{37}{1000}$

88. एक भिन्न के रूप में $0.0\overline{37}$ का रूपांतरण है

(A) $\frac{37}{990}$

(B) $\frac{37}{999}$

(C) $\frac{37}{100}$

(D) $\frac{37}{1000}$

88. The conversion of $0.0\overline{37}$ in the fractional form is

(A) $\frac{37}{990}$

(B) $\frac{37}{999}$

(C) $\frac{37}{100}$

(D) $\frac{37}{1000}$

89. -76 क 3 बे हबण कबिले प्राणु भागशेष हैछे :

(A) -1

(B) 1

(C) 2

(D) -2

89. -76 के 3 एर द्वारा भाग करले भागशेष :

(A) -1

(B) 1

(C) 2

(D) -2

89. -76 खौ 3 जौ रानोब्ला मोननाय आद्राया जागोन

(A) -1

(B) 1

(C) 2

(D) -2

SPACE FOR ROUGH WORK



89. -76 को 3 से विभाजन करने पर शेष आता है :

- (A) -1 (B) 1
(C) 2 (D) -2

89. The remainder when -76 is divided by 3, is

- (A) -1 (B) 1
(C) 2 (D) -2
-

90. এটা চতুর্ভুজৰ কোণসমূহ $1 : 3 : 4 : 7$ অনুপাতত আছে। সৰ্বোচ্চ আৰু সৰ্বনিম্ন কোণৰ পাৰ্থক্য হ'ল :

- (A) 120° (B) 140°
(C) 144° (D) 145°

90. একটি চতুর্ভুজের কোণগুলির অনুপাত $1 : 3 : 4 : 7$ । বৃহত্তম এবং ক্ষুদ্রতম কোণ দুইটির পার্থক্য :

- (A) 120° (B) 140°
(C) 144° (D) 145°

90. मोनसे आखान्थिब्रैनि खनाफोरनि रुजुथाइ आ जाबाय $1 : 3 : 4 : 7$ । देरसिनथार आरो दुइसिन खनानि फाराग आ जागोन

- (A) 120° (B) 140°
(C) 144° (D) 145°

90. एक चतुर्भुज के कोणों का अनुपात $1 : 3 : 4 : 7$ है। सबसे बड़े और सबसे छोटे कोण के बीच का अंतर है

- (A) 120° (B) 140°
(C) 144° (D) 145°

90. The angles of a quadrilateral are in the ratio of $1 : 3 : 4 : 7$. The difference between the largest and the smallest angle is

- (A) 120° (B) 140°
(C) 144° (D) 145°
-

SPACE FOR ROUGH WORK



Q. 91 to Q. 94 : Insert the correct options in the blank spaces :

91. The tenants were asked to throw all recyclable trash into _____

- (A) the green big plastic bag
 - (B) the big plastic green bag
 - (C) the big green plastic bag
 - (D) the green plastic big bag
-

92. The process uses an innovative digital technology _____ the products with as many colours as the image contains.

- (A) that imprints it
 - (B) that imprints
 - (C) that it imprints
 - (D) that imprints on
-

93. I quoted it from _____.

- (A) Mind
 - (B) Heart
 - (C) Soul
 - (D) Imagination
-

94. The company _____ because of the prolonged strikes and lockouts.

- (A) went into black
 - (B) went into green
 - (C) went into yellow
 - (D) went into red
-

Q. 95 – Q.96 : Choose the correct pair of words which are SYNONYMS of each other.

- 95.** (A) Regent – Substitute
 - (B) Monotony – Variety
 - (C) Ancestry – Posterity
 - (D) Precept – Example
-



96. (A) Vacillate – Waver (B) Oscillate – Stand
(C) Undulate – Flow (D) Spiral – Drip
-

97. Choose the correct pair of words which are ANTONYMS of each other.
(A) Lazy – Indolent (B) Glide – Drift
(C) Entire – Total (D) Obligatory – Voluntary
-

98. Choose the option which will best replace the underlined words in the sentence to make it correct :

“She done it to quick so it came out looking rough.”

- (A) done it too quickly (B) did it too quick
(C) did it too quickly (D) did it to quickly
-

99. Choose the correct option which best explains the meaning of the idiom “To give up the ghost”.

- (A) To exorcise a ghost (B) To die
(C) To be possessed by the devil (D) To worship the devil
-

100. The application letter and the resume perform :

- (A) the same task (B) two opposite tasks
(C) overlapping tasks (D) two different tasks
-



SPACE FOR ROUGH WORK



SPACE FOR ROUGH WORK

